

2019 年 11 月广西桂林事业单位考试《职业能力测
验》真题

公考通网校

www.chinaexam.org



公考通 APP



微信公众平台

2019年11月广西桂林事业单位考试《职业能力测验》真题

一、言语理解与表达。在每道小题列出的四个备选答案中只有一个是符合题目要求的。

1、党的十八大以来惩治腐败的事实说明，无论什么人，_____其职务多高，_____触犯了党纪国法，_____受到严肃追究和严厉惩处，这绝不是一句空话。

依次填入画横线部分最恰当的一项是（ ）。

- A、无论 如果 那么
- B、不论 只要 都要
- C、不管 因为 所以
- D、即使 由于 必然

2、现代人对微信_____不已，乃至几乎不能有一朝一夕的分离，与其说是微信功能强大，不如将之理解成空虚寂寞的人们，需要某种精神层面的_____。

依次填入画横线部分最恰当的一项是（ ）。

- A、崇拜 皈依
- B、痴狂 抚慰
- C、眷恋 寄托
- D、痴迷 慰藉

3、中国自古以来就非常重视家庭教育在孩子成长中_____的作用，而现代西方的心理学、教育学、脑学科的发展，都无一例外地从科学的高度充分证实：父母的言行对孩子的一生具有决定性的作用。

填入画横线部分最恰当的一项是（ ）。

- A、不二法门
- B、不可替代
- C、一锤定音
- D、非同小可

4、对经典的质疑不会使经典变得_____，反倒有助于公众更加清醒地认识经典的意义所在，并正确对待经典中可能存在的某些_____。

依次填入画横线部分最恰当的一项是（ ）。

- A、一文不值 不足
- B、平淡无奇 缺陷
- C、百无一用 弊病
- D、黯淡无光 瑕疵

5、国际市场疲软给中国经济带来了不确定性，面对外汇资产缩水风险、出口贸易受到影响和输入性通胀压力上升等_____，中国需要_____考量应对，谋定而后动。制定短期和中长期的、货币和财政的、战略和战术的、经济和政治的“中国对策”_____。

依次填入画横线部分最恰当的一项是（ ）。

- A、困境 郑重 迫在眉睫
- B、考验 审慎 刻不容缓
- C、局面 仔细 急如星火
- D、局势 认真 十万火急

6、改进文风，_____是语言问题、技术问题，_____是思想问题、感情问题，那些居高临下的呆板表述，固然与文字水平有关，但本质上反映的却是对待读者、对待群众的态度；那些了无新意的应景报道，_____是创新能力不强，_____是对世情党情国情缺乏深刻认识；那些穿靴戴帽的官样文章，看似热闹，但却令人生厌，让人反感。

依次填入画横线部分最恰当的一项是（ ）。

- A、既 又 要么 要么
- B、既 又 与其说 不如说
- C、不仅 更 要么 要么
- D、不仅 更 与其说 不如说

7、跟纸质出版界相比，网络文章发表之前无须经过身份验证、资格审查和学术评议等程序，这样就难免造成_____、_____的局面。

依次填入画横线部分最恰当的一项是（ ）。

- A、鱼目混珠 杂乱无章
- B、鱼龙混杂 杂乱无章
- C、鱼龙混杂 泥沙俱下
- D、鱼目混珠 泥沙俱下

8、公民个人信息往往被某些人暗中频繁交易流转，成了他们_____暴利的工具。

填入画横线部分最好的词语是（ ）。

- A、谋取
- B、攫取
- C、骗取
- D、获取

9、外交问题的最终决策不能过于追随网络民意。_____关注网上反映出来的“民意”，_____重视互联网反映不出来的“沉默的大多数”的“民意”，_____兼顾国内、国际局势，以外交大局为重。

依次填入画横线处最恰当的一项是（ ）。

- A、既要 也要 更要
- B、只要 就要 还要
- C、既要 还要 又要
- D、只要 只要 就要

10、根据智利的法律，所有新房屋的建造都必须按照严格的建筑程序和监督流程进行，建筑物在开建之前_____地必须由专业机构负责设计。因为对房屋防震的要求极高，所以智利人在建筑的每一个环节上都_____、不敢有丝毫的_____。

依次填入画横线部分最恰当的一项是（ ）。

- A、理所当然 精益求精 松懈
- B、无一例外 按部就班 懈怠
- C、一视同仁 精雕细刻 马虎
- D、毫无疑问 循规蹈矩 大意

11、依次填入下列横线处的词语，最恰当的一组是（ ）。

习近平总书记把“本领恐慌”现状概括为“_____不会用，_____不管用，_____不敢用，_____不顶用”，提出全党同志特别是各级领导干部，都要有本领不够的危机感，都要努力增强本领，都要一刻不停地增强本领。

- A、硬办法 软办法 新办法 老办法
- B、新办法 老办法 硬办法 软办法
- C、软办法 硬办法 老办法 新办法
- D、老办法 新办法 软办法 硬办法

12、中国流失在海外的文物数量巨大，情况也十分复杂。如果不分情况，一味花重金购买，就等于承认了这部分文物流失海外的合法性，这于情于理都令人难以接受。而中国文物无论是在什么地方——无论是在中国还是在世界任何一个国家，无论它是在国家手中还是在个人手中，只要能够向公众展示，它代表的都是中国文化，这个文化是需要宣传和展示的。文物保护本身并不是目的，目的是利用它来宣扬我们的文化。

这段文字想要表达的意思是（ ）。

- A、中国流失海外的文物情况复杂
- B、文物保护的目的在于利用文物宣扬文化
- C、文物归还，要冷静思考、理性从事

D、中国流失海外的文物合法性未得到承认

13、哲学家说，幸福是一种感觉，上午和下午感受都不一样。很多时候，也需要自我调试和社会调整。沿着这种思路，哲学家赵汀阳就认为，现代消费主义的宣传（比如消费广告刺激了大家的无限欲望），造就了“难以满足”的欲望。另一些心理学者说，很多幸福感就流失在“对比”之中，就如调查所验证的，收入分配是否“公平合理”成了影响幸福的重要因素——而不是收入是否“充足”。

这段文字表达的主要意思是（ ）。

- A、幸福的感觉因人而异，需要个人自我调试
- B、幸福是一种心理感觉，调节好自己的心态有利于获得幸福感
- C、要想获得幸福，首先要降低自己的期望
- D、哲学家和心理学家对幸福有着不同的理解

14、“一带一路”是一个沿线国家共同推进的系统工程，要求必须强调发挥市场在资源配置中的决定性作用和各类企业的主体作用，这是首要方面。但考虑到“一带一路”沿线国家复杂的国情和具体特点，如果没有政府的示范、引导和服务，受经济地理学规律影响，经济社会资源很难自动向这些地区配置。

这段文字意在指出（ ）。

- A、“一带一路”建设需要发挥政府作用
- B、发挥市场调节机制的作用是实现“一带一路”的重点
- C、政府的示范、引导和服务能够消除经济地理学规律的影响
- D、如何更好地发挥政府作用是“一带一路”工程面临的难题

15、打开微信朋友圈，能看到很多年轻父母拍照“晒娃”，看得多了，难免让人产生一种错觉，似乎有些父母把孩子“宠物化”了。事实上，不少家长对孩子的确有这种“宠物化”倾向，开心时会和孩子玩一玩逗一逗，温言细语，心情不好时就态度粗暴，拿孩子撒气，而在孩子成长过程中，当絮叨无效或“婆婆妈妈”令孩子逆反之后，一些“懒得废话”的家长就会诉诸暴力。

这段文字反映出一些年轻家长存在的主要问题是（ ）。

- A、缺乏信息安全意识
- B、心智显得不够成熟
- C、利用孩子满足虚荣心
- D、忽略孩子的心理需求

16、工匠手中为民造福的劳动工具，在愚昧无知、失去理性的人手中也会变成凶器；科学家可以造福人类，也可以毁灭世界；电脑专家可以帮助企业发展，也可以造成工商界的混乱。

这段话支持了这样的观点，即（ ）。

- A、科学技术是把双刃剑

- B、科学技术需要道德的把握
- C、科学技术不能离开道德的指引
- D、道德品质是第一位

17、某市一所技校“回炉”了百余名大学生，原因就是这些人的大学教育缺乏实用性，毕业后很难找到工作，通过半年到一年的职业技术学校的“回炉”，这些大学生全部找到了工作。

对于这段文字中的“回炉”，理解准确的是（ ）。

- A、技校学生不能合格毕业而留级
- B、未就业的大学生重回大学校园学习
- C、毕业大学生到技校学习职业技能
- D、技校帮助培养合格毕业的大学生

18、当你端着满满的一杯咖啡行走时，如果你的眼睛老是盯着液面，心中总是在设法使之平稳，结果是你会发现咖啡液面的波动会越来越剧烈，以致渐出杯子，相反，如果你不过分地小心翼翼，大胆地走，它反而不会溅出杯子。政府对经济的干预也是这样，_____。

横线处应填入的句子是（ ）。

- A、过分地通过干预追求平衡反而会出问题，而任其自由发展反而没问题
- B、过分地通过干预追求平衡反而会出问题，而放开手脚让经济在市场中自由发展反而容易达到平衡
- C、放开手脚让经济在市场中自由发展，反而容易达到平衡
- D、不要过分干预，干预总是走向反面

19、中国人民正在为实现中华民族伟大复兴的中国梦而奋斗。实现中国梦，是物质文明和精神文明均衡发展、相互促进的结果。没有文明的继承和发展，没有文化的弘扬和繁荣，就没有中国梦的实现。实现中国梦，是物质文明和精神文明比翼双飞的发展过程。随着中国经济社会不断发展，中华文明也必将顺应时代发展焕发出更加蓬勃的生命力。

最适合做这段文字标题的是（ ）。

- A、为实现中国梦而奋斗
- B、伟大复兴的中国梦
- C、中国人民与中国梦
- D、中华民族的梦想

20、古语云：“疾风知劲草。”经历严峻的考验，方可知晓谁才是真正坚强的人。那么，换在一个顺风顺水的环境里，难道就无法试炼出一个人的意志、品格吗？

这段话想表达的意思是（ ）。

- A、顺意的环境很难考验一个人的意志

- B、关键时刻才能识别谁是真正的强者
- C、日常工作照样能够考验一个人的意志
- D、平淡的生活也能了解一个人的品格

21、一位父亲深情地对大学毕业刚走上工作岗位的儿子说：“世界上只有没出息的人，没有没出息的工作。”这位父亲是要告诉儿子，要树立（ ）。

- A、自主择业观
- B、竞争就业观
- C、职业平等观
- D、自主创业观

22、空气污染是工业化和城市化进程的伴生物。我国目前正在经历的阶段，许多发达国家在不同程度上也曾经历过，一些造成严重公共健康影响的大气污染事件，甚至成为世界环保史上引以为戒的案例，如美国洛杉矶光化学烟雾事件等。不过，近半个世纪以来的实践表明，_____。通过完善城市大气环境质量的监测，以及提高监测信息的透明度，既可以提高全社会对大气污染问题的关注，从而促进大气环境质量的改善，也可以尽可能避免或降低大气污染对人体健康的公共风险。

填入画横线部分最恰当的一句是（ ）。

- A、提高公众健康风险意识有助于治理城市空气污染
- B、现行的空气质量标准已不能适应当前环保要求
- C、减少污染既要加强治理又要加强环境法制建设
- D、环境信息公开可以成为环境管理的重要手段

23、河的两岸风光旖旎。西岸，草原一望无际，绿色的波涛逶迤而去，在天际同蓝天连成一片。三四千头成群的野牛在广阔无垠的草原上漫游。这时，一头年迈的野牛劈开波涛，游到河心小岛上，卧在高深的草丛里。看它头上有两弯新月，看它沾满淤泥的漂浮的长髯，你可能把它当成河神。它踌躇满志，望着那壮阔的河流和繁茂而荒野的两岸。

作者接下来最有可能着重介绍的是（ ）。

- A、叙述“河神”野牛的传说
- B、描写草原上的其他野生动物
- C、描写位于河岸上自己的家乡
- D、描写河另一岸的美丽风光

- 24、①引发剧烈的山崩地裂，引发大面积地震和惊天海啸，从而带来遍地浩劫
- ②引起像温泉及间歇泉那样的地热现象
- ③火山区的地下活动至今仍未停止

④当达到超级火山爆发的限度时，其喷发力可将岩浆喷到 25 公里的高空

⑤平时看起来水火不容的力量似乎在和谐地同时工作

⑥表面休眠中的火山将地下的水体加热煮沸，形成奇异的化学反应，不停息地溶解着岩石层

将以上 6 个句子重新排列，语序正确的是（ ）。

A、⑥⑤④②③①

B、⑤③①④⑥②

C、④⑤②⑥①③

D、③⑤⑥②④①

25、①在这里，人们已经从浮躁的、高速的城市发展中沉淀下来，希望获得内在的平衡。

②二十多年以来，从外表上看，那里的变化并不是非常巨大。

③整个城市显得平和恬静。

④每年，我仍旧有机会飞往硅谷，参加各种年会。

⑤包括节能减排的新举措。

⑥但是生活在那里的人正在源源不断地为它注入各种生机。

将以上 6 个句子重新排列，语序正确的是（ ）。

A、④②⑥⑤①③

B、②④⑤⑥①③

C、②④①③⑤⑥

D、④①③②⑥⑤

26、下列各句中，没有语病的一句是（ ）。

A、在高等教育规模迅速扩大的新形势下，对高校的管理工作提出了更高的要求。

B、这些经验值得广大管理干部，特别是各企业主要领导的重视。

C、在客观事实面前，谁也无法否认他的确完成了常人难以完成的工作。

D、小赵看到了领导的批示，才使他心里的一块石头落了地

27、下列运用成语“巧夺天工”正确的一项是（ ）。

A、壶口瀑布形成了茫茫的冰道，奇形怪状的水柱错落有致，浑然天成，好像巧夺天工的冰雕。

B、三峡各具特色，山有行姿，水呈百态，奇俊秀丽，巧夺天工。

C、翘首西望，海面托着的就是披着银发的苍山。苍山如屏，洱海如镜，真是巧夺天工。

D、贵州境内不仅分布着大量巧夺天工的自然景观，而且保存着多姿多彩的民族文化。

28、下列词语中，没有错别字的一项是（ ）。

A、范筹 抉择 棉里藏针 望风披靡

- B、防害 亟待 徇私枉法 挺而走险
- C、枯燥 脉络 投鼠忌器 因噎费食
- D、怂恿 羁绊 阴谋诡计 同仇敌忾

29、对下列词语意义的解释，正确的一组是（ ）。

- A、流刑（流放的刑罚） 流星赶月（形容迅速） 流连（留恋不舍离去）
- B、声望（名声、名气） 声泪俱下（形容极其悲恸） 声气（声音中带气）
- C、临终（人将要死） 临危授命（危难时期被任命） 临深履薄（比喻谨慎戒惧）
- D、虚辞（与实词相对的词类） 虚怀若谷（形容十分谦虚） 虚造（凭空捏造）

30、最早对西方的写实油画表示莫名惊叹欣赏的，是康有为、梁启超一辈。他们对光影效果、_____的视觉幻象，及西洋宗教画所体现的人文情怀，都表达了由衷的赞赏。

填入画横线部分最恰当的一项是（ ）。

- A、眼花缭乱
- B、惟妙惟肖
- C、光怪陆离
- D、栩栩如生

31、随着时代的发展，计算机技术更加（ ）地应用于机关和各种商务办公。

- A、广泛
- B、深入
- C、普及
- D、全面

32、在过去十年里，中国南部几乎每个省都发现了古人类化石，其中许多都来自可以追溯到 10 万年或者更多年头之前的沉积物，但是从解剖学来看，这些人类的_____跟生活在今天的中国人几乎没有什么不同。

依次填入画横线部分最恰当的一项是（ ）。

- A、外形
- B、特征
- C、样貌
- D、特质

33、要接受并欣赏一种艺术，需要相当长的一个过程，那就是需要逐渐地去_____，去_____，去_____，去_____，这样，才能培养起对它的兴趣和爱好。

依次填入画横线部分最恰当的一项是（ ）。

- A、熟悉 适应 理解 习惯

- B、熟悉 适应 习惯 理解
- C、适应 熟悉 习惯 理解
- D、理解 熟悉 适应 习惯

34、思想实验，哲学家或科学家们常常用它来论证一些让人感到_____的理念或假说，主要用于哲学或理论物理学等较为抽象的学科，因为这类实验往往难以在现实世界中开展。这些实验看似_____，其间却蕴含着很多“剪不断、理还乱”的哲理。

依次填入画横线部分最恰当的一项是（ ）。

- A、神秘 独立
- B、迷惑 简单
- C、新颖 清晰
- D、玄奥 系统

35、史学研究如果离开了哲学的_____，不关注重大的历史事变和基本的理论问题，以繁琐考辨取代理论思维，以堆砌资料为_____，以叠床架屋为_____，拾芝麻以为玃珠，袭陈言而自诩多闻，见枯木以为树林，_____，见小遗大，就注定要湮没在史料的汪洋之中，堕落为服务故纸堆的陈腐工具。依次填入划横线部分最恰当的一项是（ ）。

- A、指引 多 强 一孔见天
- B、引导 广 美 窥斑见豹
- C、指导 博 精 以偏概全
- D、指点 全 妙 以管窥天

36、底线无形地存在于两个地方。一在社会中，一在每个人心里。如果人们都降低自己的底线，社会的底线一定下降。社会失去共同遵守的底线，世道人心一定败坏；如果人人守住底线，社会便拥有一条美丽的水准线——文明。因此说，守住底线，既是为了成全社会，也是成全自己。

对“底线”的理解，不正确的一项是（ ）。

- A、社会的底线下降是每个人心中的底线下降的标志
- B、每个人都遵守底线，社会才会变得文明
- C、每个人心中的底线下降会导致社会的底线下降
- D、守住底线既有利于个人成长，又有利于社会发展

37、在知识社会里，有文化远不止于会阅读、写作与计算，如今，有文化还包括基本的计算机操作技能及对信息化社会的了解。每个社会成员对这个复杂的世界都必须有相当深切的了解与广博的知识，而新的传播媒介提供了大量这样的知识，在知识社会中，我们要会如何学习，因为迅速变化是知识的基本性质。因此，学会如何学习远比掌握现在的知识更重要。

这段话的主要意思是（ ）。

- A、在知识社会里，阅读、写作与计算的能力不再重要了
- B、在知识社会里，每个社会成员都要掌握广博的知识
- C、在知识社会里，新的传播媒介提供了大量的知识
- D、在知识社会里，掌握学习方法比掌握知识更重要

38、居里夫人说：“我认定科学本身就具有伟大的美。一位从事研究工作的科学家，不仅是一个技术人员，并且他是一个小孩儿，在大自然的景色中，好像迷醉于神话故事一般。这种魅力，就是使我终生能够在实验室里埋头工作的主要原因。”

作者说，从事研究工作的科学家“是一个小孩儿”，意在说明（ ）。

- A、科学本身具有伟大的美
- B、科学家对所从事的工作达到迷醉的程度
- C、科学家一直沉醉于在实验室埋头工作
- D、小孩迷醉于大自然的美景如同进入神话境界

39、长期以来，我们把加班加点作为员工爱岗敬业的体现。一个同志加班加点工作，超额完成任务，甚至一个人干三个人的活，当然值得肯定，其精神和热情不容亵渎。我们国家发展快，经济高速增长，与各行各业加班加点“蔚然成风”分不开；说中国的发展成就是中国人勤奋努力、辛辛苦苦干出来的，一点都不为过。这应该是加班加点“利”的一面。

根据以上文段，我们可以得知作者对加班加点的看法不包括（ ）。

- A、加班加点是员工爱岗敬业的体现，应大力提倡
- B、员工加班加点的精神和热情值得肯定
- C、加班加点也可能存在着“弊”的一面
- D、加班加点已经成为各行各业的普遍风气

40、美丽的灵魂可以赋予一个并不美丽的身躯以美感，正如丑恶的灵魂会在一个非常漂亮的身躯上打下某种特殊的不由得使人厌恶的烙印一样。

这段文字的主旨是（ ）。

- A、好看的身躯与丑恶的灵魂有时会同时存在于一个人身上
- B、具有美丽灵魂的人不一定具备好看的身躯
- C、灵魂的美丽与否比身躯的美丽与否更重要
- D、丑恶的灵魂即使附着在一个非常漂亮的躯体上也会令人厌恶

二、常识判断。在每道小题列出的四个备选答案中只有一个是符合题目要求的。

41、为调动农民生产积极性，从 2004 年起，我国全面放开粮食收购市场，为保护粮食生产能力，同年，我国还配套出台的“三农”政策是（ ）。

- A、在全国范围内免征农业税
- B、在全国范围内实行粮食直补
- C、实施农业科技入户工程
- D、实施最严格的耕地保护制度

42、下列短语能体现“实践是认识的来源”这一哲学原理的是（ ）。

- A、三个臭皮匠，赛过诸葛亮
- B、城门失火，殃及池鱼
- C、近水知鱼性，靠山识鸟音
- D、星星之火，可以燎原

43、广西桂林“全州红军长征湘江战役纪念馆”开园仪式是（ ）。

- A、9月3日
- B、9月12日
- C、9月30日
- D、10月1日

44、20 世纪 90 年代以后，中国内地形成了一些跨省区的经济区域：

- ①长江三角洲和长江沿江地区经济带；
- ②以广州、深圳为中心的珠江三角洲地区经济带；
- ③包括北京、天津、河北、辽宁、山东、山西、内蒙古在内的环渤海地区经济区；
- ④中部地区经济区，包括河南、湖北、湖南、安徽、江西。

上述经济区域形成的先后顺序是（ ）。

- A、①②③④
- B、②①④③
- C、②④③①
- D、④③①②

45、王某和张某分别出资 5000 元和 7000 元合开一个饭店，后因经营不善欠债 2000 元，对该债务双方应承担（ ）。

- A、无限连带责任
- B、无限按份责任
- C、有限连带责任

D、有限按份责任

46、下列因素中不影响房地产价格的是（ ）。

- A、银行利率
- B、人口增长率
- C、自然失业率
- D、通货膨胀率

47、我国劳动力供大于求的总体格局并没有发生根本性变化，因此政府应当（ ）。

- A、加快产业升级，吸纳更多劳动力就业
- B、发展劳动密集型产业，缓解就业压力
- C、取消或降低企业最低工资标准
- D、放松失业率控制标准

48、大力加强党的作风建设是加强党的建设的一项重大战略任务，对于进一步提高党的领导水平和执政水平，不断增强党的创造力、凝聚力和战斗力，具有十分重要的意义。加强党的作风建设必须把_____放在第一位。

填入画横线部分最恰当的一项是（ ）。

- A、生活作风
- B、领导作风
- C、思想作风
- D、工作作风

49、货币政策是政府调控宏观经济的基本手段之一，当通货膨胀较为严重时，应该采取的货币政策是（ ）。

- A、紧缩性货币政策
- B、扩张性货币政策
- C、适应宽松货币政策
- D、积极货币政策

50、下列关于法律与道德的关系的表述中，错误的是：（ ）

- A、法律和道德都属于社会规范的范畴，均具有规范性
- B、违法行为一定是违反道德的，但违反道德的行为不一定是违法行为
- C、法律有国家强制力保障实施，而道德主要通过社会舆论和内心自律得以实施
- D、法律和道德可以互为促进

51、在我国，全国武装力量由（ ）领导并统一指挥。

- A、国务院
- B、中央军事委员会
- C、中华人民共和国主席
- D、国防部

52、根据我国有关法律规定，下列哪一行为是不合法的？（ ）

- A、某乡人民代表大会选举产生乡长、副乡长
- B、国务院某部门制定规章设定行政许可
- C、国务院发布《关于加强市县依法行政的决定》
- D、全国人民代表大会常务委员会批准 2009 年中央预算调整方案

53、甲、乙结婚后，乙方的父母于 2011 年 11 月 1 日出资 300 万为甲、乙购买了房屋，房屋产权登记在乙的名下，由于甲外出打工，乙长期在娘家居住，经夫妻协商将房屋出租。2012 年 4 月 20 日，因甲在外出打工期间与他人同居，乙提起诉讼离婚，法院判决甲、乙离婚。

下列说法不正确的是：（ ）

- A、该房屋认定为乙的个人财产
- B、该房屋应视为乙的父母只对乙的赠予
- C、房屋租金属于夫妻共同财产
- D、应当将房屋视为夫妻共同财产并依法分割

54、甲在商场柜台边捡到一个钱包，内装有人民币 6000 元，送交给该商场保卫科负责人乙，乙将此款据为己有。乙的行为构成（ ）。

- A、侵占罪
- B、挪用公款罪
- C、贪污罪
- D、巨额财产来路不明罪

55、法官甲在审理民事案件时，下列哪一情形可以不予回避？（ ）

- A、甲是案件当事人
- B、甲是当事人的表哥
- C、当事人是甲的妻子
- D、当事人是甲的同学

56、人类科技发展的历程中，先后出现了下列科技词语：（1）电子计算机；（2）量子力学；（3）航天器；（4）转基因水稻。

按照先后顺序排列正确的是（ ）。

- A、(1) (2) (3) (4)
- B、(2) (1) (3) (4)
- C、(2) (3) (4) (1)
- D、(1) (2) (4) (3)

57、下列生活中保存食物的方法，理解错误的是：（ ）

- A、盐腌制食品是因为盐可以形成高渗环境，抑制了微生物的生理活动
- B、真空保存食物可以破坏需氧菌类的生存环境
- C、充入氮气保存食品是为了隔绝食品与氧气接触
- D、冷藏保存食品是因为低温可以将细菌冻死

58、青藏高原有“世界屋脊”之称，它的形成是由哪两个板块碰撞引起的？（ ）

- A、印度板块和太平洋板块
- B、印度板块和欧亚板块
- C、太平洋板块和南美板块
- D、太平洋板块和欧亚板块

59、下面不属于喀斯特地貌的是：（ ）

- A、云南石林
- B、湖南张家界
- C、福建武夷山
- D、广西桂林象鼻山

60、下列关于北回归线经过的省份，说法正确的是：（ ）

- A、云南、广西、广东、福建
- B、西藏、广西、云南、四川
- C、台湾、广东、广西、云南
- D、海南、广西、云南、西藏

61、国家建立健全突发事件预警制度，对于可以预警的自然灾害、事故灾害和公共卫生事件的预警级别，按照突发事件的紧急程度、发展势态和可能造成的危害程度分为一级、二级、三级和四级，其中三级的标示颜色是（ ）。

- A、蓝色
- B、白色
- C、红色
- D、黄色

62、下列哪一战役不是我国历史上以少胜多的战役？（ ）

- A、官渡之战
- B、桂陵之战
- C、淝水之战
- D、赤壁之战

63、下列诗句反映的历史事件，按时间先后顺序排列正确的是（ ）。

- ①北师覆没威海卫，签订条约在马关
- ②鸦片带来民族难，销烟虎门海滩前
- ③武装起义占三镇，武昌汉口和汉阳

- A、①③②
- B、②③①
- C、①②③
- D、②①③

64、“修身、齐家、治国、平天下”出自（ ）。

- A、《论语》
- B、《孟子》
- C、《大学》
- D、《中庸》

65、下列诗句与其作者对应正确的是（ ）。

- A、秦时明月汉时关，万里长征人未还——王昌龄
- B、黄沙百战穿金甲，不破楼兰终不还——李商隐
- C、葡萄美酒夜光杯，欲饮琵琶马上催——李白
- D、战士军前半死生，美人帐下犹歌舞——杜甫

66、下列哪一项中的民俗均与端午节有关？（ ）

- A、剪窗花、踏青、燃放灯火、放风筝
- B、饮菊花酒、赏月、佩茱萸、猜灯谜
- C、赏菊花、放孔明灯、插柳、贴春联
- D、饮雄黄酒、吃粽子、赛龙舟、插菖蒲

67、下列依次与蒙古族、回族、藏族、维吾尔族、壮族有关的是（ ）。

- A、酥油茶、馓子、青稞酒、馕、萨其马
- B、马头琴、冬不拉、铜钦、葫芦丝、芦笙

- C、那达慕大会、开斋节、雪顿节、古尔邦节、泼水节
- D、《嘎达梅林》、《穆斯林的葬礼》、《格萨尔王传》、《阿凡提的故事》、《刘三姐》

68、下列能够依次展示美国、英国、法国和日本影响力的文化符号是：

- A、感恩节、巨石阵、卢浮宫、浮土绘
- B、硅谷、哈佛大学、白金汉宫、东照宫
- C、爵士乐、金色大厅、圣女贞德、新干线
- D、劳斯莱斯、芭比娃娃、巴尔扎克、桂离宫

69、有学者认为，先秦时期某学派主张积极救世，做事讲求道德；另一学派以其超凡脱俗、清静自然的美感和灵性弥补了前一学派的缺陷。该学者评述的两个学派分别是（ ）。

- A、儒家、道家
- B、法家、墨家
- C、法家、儒家
- D、儒家、墨家

70、俗话说：“一山难容二虎”。从管理的角度看，对这句话最合适的理解是（ ）。

- A、组织中的领导个性不一致，必将导致不团结
- B、组织需要集中统一管理，不能“政出多门”
- C、组织中的能人太多，必然造成内耗
- D、组织目标需要达成共识，不能有不同意见

三、数量关系。在每道小题列出的四个备选答案中只有一个是符合题目要求的。

71、已知 $33 \times 34 = 1122$ ， $333333 \times 333334 = 111111222222$ ，那么 $33333 \times 33334 =$ （ ）。

- A、111122222
- B、111112222
- C、11112222
- D、1111122222

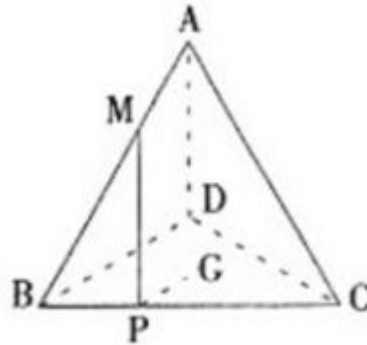
72、2013 年是中国农历蛇年。在 21 世纪余下的年份里，农历是蛇年的年份还有（ ）。

- A、5 个
- B、6 个
- C、7 个
- D、8 个

73、已知一内直径为 50cm，内高 100cm 的圆柱形木桶，灌满了浓度为 20% 的盐水溶液，使其倾斜 45° 倒出部分溶液后放平，再加满清水，问此时木桶内盐水溶液的浓度是多少？（ ）

- A、10%
- B、12.5%
- C、13.3%
- D、15%

74、如图，ABCD 是棱长为 3 的正四面体，M 是棱 AB 上的一点，且 $MB=2MA$ ，G 是三角形 BCD 的重心，动点 P 在棱 BC 上，则 $PM+PG$ 的最小值是（ ）。



- A、 $\sqrt{10}$
- B、 $\sqrt{7}$
- C、3
- D、 $\sqrt{11}$

75、小王开车上班需要经过 4 个交通路口，假设经过每个路口遇到红灯的概率分别是 0.1, 0.2, 0.25, 0.4，他上班经过的 4 个路口至少有一处遇到绿灯的概率是多少？（ ）

- A、0.899
- B、0.988
- C、0.989
- D、0.998

76、某单位有 78 个人，站成一排，从左边向右数，小王是第 50 个，从右边向左数，小张是第 48 个，则小王和小张之间有多少人？（ ）

- A、16
- B、17
- C、18
- D、20

77、一条长 146 公里的山区公路分为上坡、平地和下坡三段，其中上下坡的距离相等。某越野车以上坡 20km/h，平地 30km/h，下坡 50km/h 的速度行驶，跑完该条公路正好用时 5 小时，问该公路中的平地路程为多少公里？（ ）

- A、40
- B、55
- C、66
- D、75

78、一家四口人的年龄之和为 149 岁，其中外公年龄、母亲年龄以及两人年龄之和都是平方数，而父亲 7 年前的年龄正好是孩子年龄的六倍，问外公年龄上一次是孩子年龄的整数倍是几年前？（ ）

- A、2
- B、4
- C、6
- D、8

79、6，62，214，（ ）

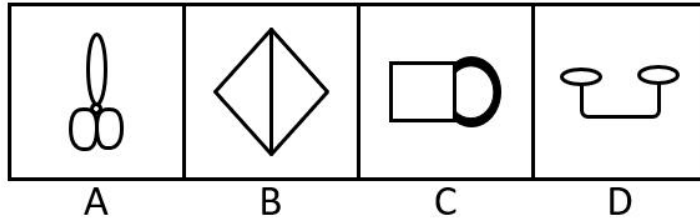
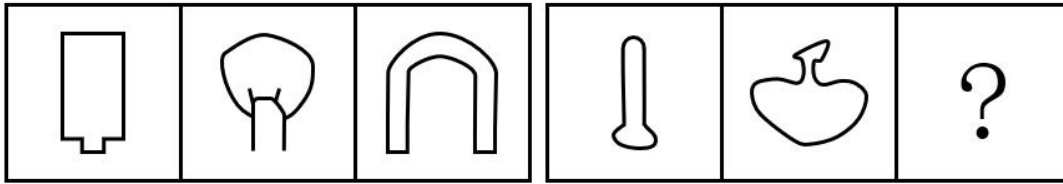
- A、500
- B、510
- C、342
- D、344

80、1，4，5，6，10，15，（ ）。

- A、16
- B、18
- C、20
- D、21

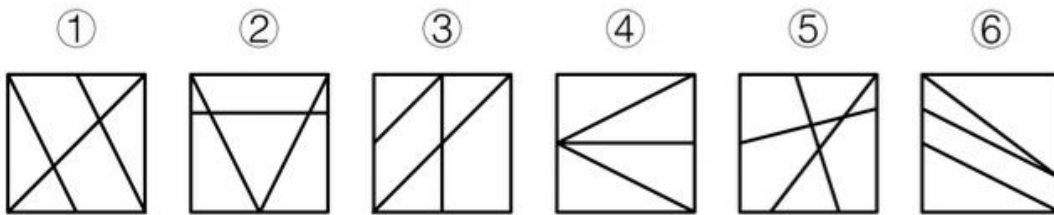
四、判断推理。在每道小题列出的四个备选答案中只有一个是符合题目要求的。

81、请从所给的四个选项中，选择最合适的一个填入问号处，使之呈现一定的规律性。（ ）



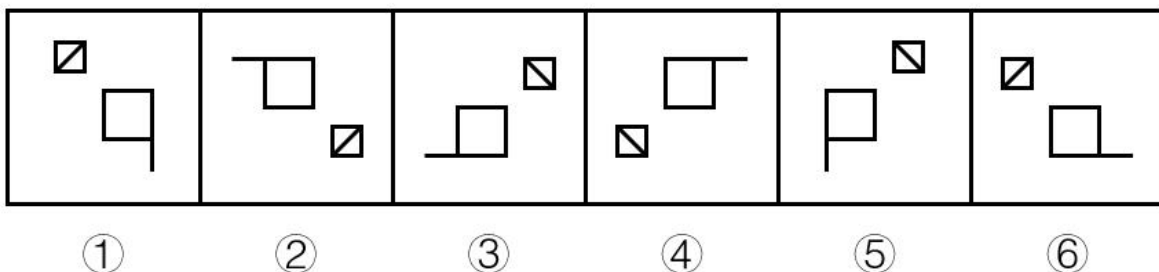
- A、A
- B、B
- C、C
- D、D

82、把下面六个图形分为两类,使得每一类图形都有各自的共同特征或规律,分类正确的一项是:()



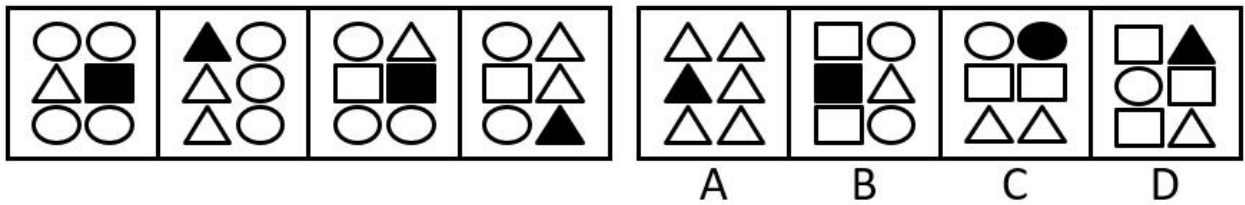
- A、①②⑥, ③④⑤
- B、①③⑤, ②④⑥
- C、①③④, ②⑤⑥
- D、①④⑥, ②③⑤

83、把下面六个图形分为两类,使得每一类图形都有各自的共同特征或规律,分类正确的一项是:()



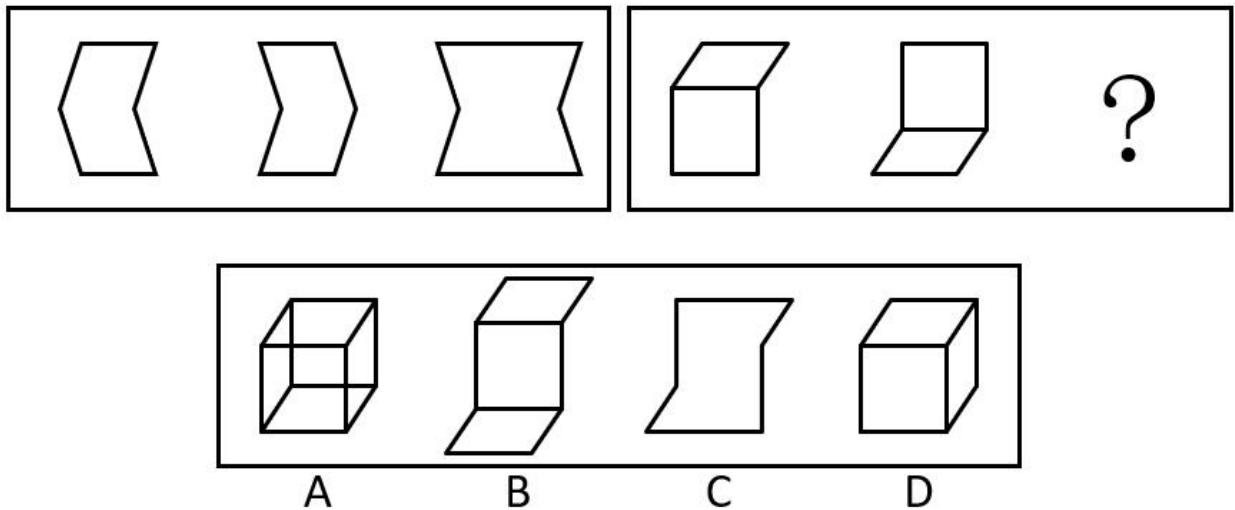
- A、①②⑥, ③④⑤
- B、①③⑤, ②④⑥
- C、①③④, ②⑤⑥
- D、①④⑥, ②③⑤

84、从 A、B、C、D 四个图形中选出最合适的一个，使得它保持左边四个图形所呈现的规律性。（ ）



- A、A
- B、B
- C、C
- D、D

85、请从所给的四个选项中，选择最合适的一个填入问号处，使之呈现一定的规律性。（ ）



- A、A
- B、B
- C、C
- D、D

86、三段论是指由两个含有一个共同项的性质判断作前提，得出一个新的性质判断作为结论的演绎推理。

演绎推理是由普遍性的前提推出特殊性结论的推理。

根据以上定义，下列属于三段论的是（ ）。

- A、所有的金属都不溶于水，铬是金属，所以铬不溶于水
- B、所有的麻雀都有羽毛，所有的鸽子都有羽毛，所以所有的鸟都有羽毛
- C、甲不是罪犯，乙不是罪犯，所以甲乙都不是罪犯
- D、周恩来是伟大的政治家，周恩来是伟大的军事家，所以周恩来是伟大的政治家和军事家

87、水下文化遗产是指，至少 100 年来，周期性地或连续性地，部分或全部位于水下的具有文化、历史或考古价值的所有人类生存的遗迹。

根据上述定义，下列属于水下文化遗产的是（ ）。

- A、澳大利亚沿海历时数百万年形成的世界上最大的珊瑚群大堡礁
- B、我国道光年间在苏门答腊岛和爪哇岛之间触礁沉没的商船“泰兴号”
- C、迪拜于上世纪末在海中以人工岛方式建造的世界第一座七星级观光饭店
- D、希腊克里特岛上发掘出的公元前 10000 年至公元前 3300 年新石器文化遗迹

88、贝勃规律是一个社会心理学效应，是指当人经历强烈的刺激后，再施予的刺激对他（她）来说也就变得微不足道。就心理感受来说，第一次大刺激能冲淡第二次的小刺激。

根据上述定义，下列各项中符合贝勃规律的是（ ）。

- A、母亲病逝后不久，父亲又遭遇了车祸，接二连三的打击让小王越来越无心读书
- B、小赵购买了 100 张彩票，逐一刮开后竟然有二十几张中奖，这令他欣喜若狂
- C、当房价飞涨到每平方米 5 万元的时候，人们对于每公斤卖到 50 元的苹果已不足为奇
- D、4 岁的萌萌在认读了常用汉字之后，又开始学习外语

89、运动参与是指主动参与体育活动的态度和行为表现，经常参与体育活动的人，可以培养和发展对运动的兴趣和爱好。养成体育锻炼的习惯，使体育活动成为生活中的重要组成部分。作为学校领域的运动参与，要求学生具有积极参与体育活动的态度和行为，掌握科学健身的知识和方法，养成坚持体育锻炼的习惯。

根据上述定义，下列属于运动参与的是（ ）。

- A、小强体质较弱，为了增强体魄，他开始参与体育运动
- B、为了培养孩子的兴趣，小生的父亲经常带他去游泳
- C、小张酷爱网球比赛，会经常观看各种各样的网球比赛
- D、小李热爱跑步，只要有时间，他就会参加马拉松比赛

90、法律责任是指由特定法律事实所引起的对损害予以补偿、强制履行或接受惩罚的特殊义务，亦即由于违反第一性义务而引起的第二性义务。

根据上述定义，下列属于导致法律责任的是（ ）。

- A、陈某向某电视台举报揭露某公司造假，电视台没有报道
- B、李某被公共汽车售票员提醒后，仍不给残疾人王某让座，结果王某被挤伤
- C、孙某和肖某谈恋爱，后因感情不和分手，肖某极度痛苦，患上抑郁症
- D、某公司要求工人每天至少工作 16 小时，加班费每小时 5 元

91、（ ）之于计算机相当于（ ）之于相机。

- A、运算，摄影

- B、公式，程序
- C、键盘，屏幕
- D、数学，风景

92、不入虎穴，焉得虎子（ ）

- A、股市有风险，入市须谨慎
- B、要想人不知，除非己莫为
- C、台上三分钟，台下十年功
- D、无风不起浪

93、军人：医生：军医（ ）

- A、司机：警察：交警
- B、舞蹈：说唱：二人转
- C、学科：研究：科研
- D、汽车：电动车：电动汽车

94、中国：上海（ ）

- A、美国：华盛顿
- B、俄罗斯：莫斯科
- C、法国：巴黎
- D、澳大利亚：悉尼

95、山涧：河流：大海（ ）

- A、员工：企业：集团
- B、草：草坪：草原
- C、城市：国家：地球
- D、狂风：闪电：暴雨

96、某中学的教师都很有爱心。有些经常志愿献血的教师免费为学习困难学生补课，凡是资助了贫困生的教师都和困难家庭结成了帮困对子，但所有免费为学习困难学生补课的教师都没有和困难家庭结成帮困对子。

根据以上前提，下列（ ）项一定为真。

- A、有些经常志愿献血的教师没有资助贫困生
- B、有些资助了贫困生的教师没有志愿献血
- C、有些资助了贫困生的教师经常志愿献血
- D、有些经常志愿献血的教师跟困难家庭结成了帮困对子

97、某公园内有个奇怪的摊主小周，他只在星期一、星期二、星期三、星期五和星期六工作，而且他只出售 4 种商品：玩具汽车、充气气球、橡皮泥和遥控飞机。每个工作日，他上午只卖 1 种商品，下午只卖 1 种商品，而且还知道如下条件：

- (1) 小周在而且只在两个连续的下午卖玩具汽车；
- (2) 小周只在一个上午和三个下午卖橡皮泥；
- (3) 星期六这天，小周既不卖玩具汽车，也不卖充气气球。

若上述情况为真，请问哪一天小周一定会卖玩具汽车？（ ）

- A、星期一
- B、星期二
- C、星期三
- D、星期五

98、不可能所有的江西人都喜欢吃辣椒。以下哪项判断的含义与上述判断最为接近？（ ）。

- A、必然有的江西人不喜欢吃辣椒
- B、可能所有的江西人都喜欢吃辣椒
- C、必然所有的江西人都喜欢吃辣椒
- D、可能有的江西人会吃辣椒

99、有些艺术家留大胡子，因此，有些留大胡子的人是大嗓门。

为使上述推理成立，必须补充以下哪项作为前提？（ ）

- A、有些艺术家是大嗓门
- B、所有大嗓门的人都是艺术家
- C、所有艺术家都是大嗓门
- D、有些大嗓门的人不是艺术家

100、现有甲乙两艘船同时出发，同向行驶至目的地，小明在甲船出发的瞬间开始从船头走向船尾，他出发时，甲、乙船头与目的地距离相等；当他走到船尾时，两船船尾与目的地距离相等。由此推论以下可能正确的是（ ）。

- ①乙船比甲船长，行驶速度比甲船快
- ②甲船比乙船短，行驶速度比乙船快
- ③甲乙两船长度相等，行驶速度相同
- ④乙船比甲船短，行驶速度比甲船快
- ⑤甲船比乙船长，行驶速度比乙船快

- A、①③④

- B、①②⑤
- C、③④⑤
- D、①③⑤

五、资料分析。在每道小题列出的四个备选答案中只有一个是符合题目要求的。

(一)

2013 年全国 1-5 月保险业经营状况

	经营状况(亿元)					同比增速(%)
	1月	2月	3月	4月	5月	5月
保险保费收入	2012	1382	1756	1316	1277	10
1. 财产险	612	339	562	530	500	12
2. 人身险	1400	1043	1195	786	777	9
(1)寿险	1255	944	1025	669	655	8
(2)健康险	106	76	113	76	83	14
(3)人身意外伤害险	40	23	56	40	39	22
保险赔付支出	501	447	540	505	487	32
1. 财产险	281	194	255	254	266	16
2. 人身险	220	252	285	252	220	58
(1)寿险	175	224	245	212	180	68
(2)健康险	36	22	32	31	32	29
(3)人身意外伤害险	9	7	9	8	8	11
业务及管理费	185	166	195	189	190	21

101、2013 年 1-5 月，保险业平均每月业务及管理费用约为（ ）亿元？

- A、180
- B、185
- C、190
- D、195

102、在寿险、健康险和人身意外伤害险中，有几类险种在 2013 年 5 月的保险赔付支出额占全行业保险赔付支出总额的比重高于上年同期水平？（ ）

- A、0
- B、1
- C、2
- D、3

103、2013年3月，人身险的三个险种保费收入环比增速排序正确的是（ ）。

- A、人身意外伤害险>寿险>健康险
- B、健康险>寿险>人身意外伤害险
- C、健康险>人身意外伤害险>寿险
- D、人身意外伤害险>健康险>寿险

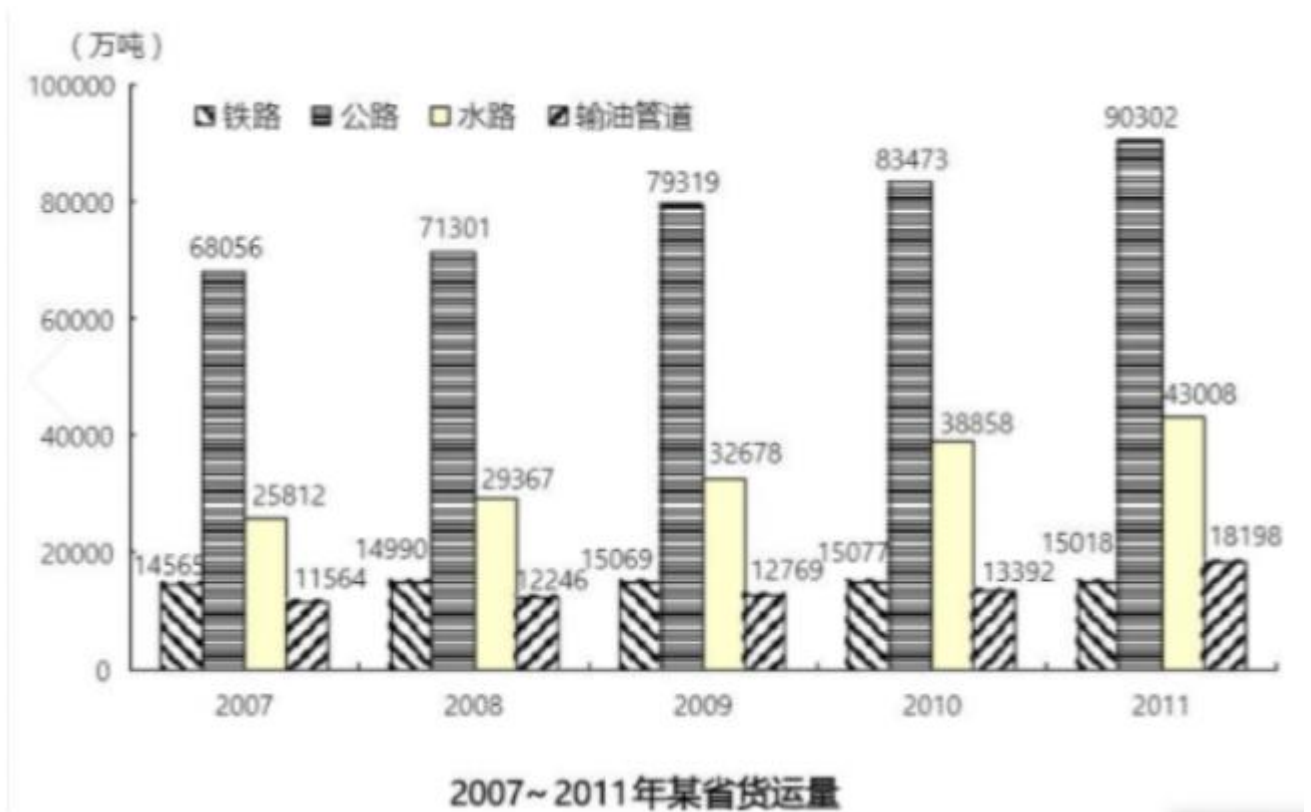
104、关于2013年1-5月保险业经营状况，能够从上述资料中推出的是（ ）。

- A、5月各类险种保费收入均低于4月
- B、4月三个人身险种的收入均高于一季度平均水平
- C、2月各类险种保险赔付支出均低于1月
- D、1月人身意外伤害险收入在保费总收入中的占比不足2%

105、以上各月中，哪个月全行业保险赔付支出额与保险保费收入额的比值最低？（ ）

- A、1月
- B、2月
- C、3月
- D、4月

(二)



106、与上年相比，2011年该省货运量增长速度最快的运输方式是（ ）。

- A、铁路
- B、公路
- C、水运
- D、输油管道

107、2011 年该省货运总量比 2007 年增长（ ）。

- A、35%
- B、39%
- C、41%
- D、43%

108、2007 年以来，该省公路货运年均增长量是（ ）。

- A、5562 万吨
- B、4449 万吨
- C、4299 万吨
- D、3854 万吨

109、2007 年以来，该省货运量增长率每年均超过 5%的运输方式的个数是（ ）。

- A、3
- B、2
- C、1
- D、0

110、下列判断正确的有（ ）。

- (1) 2010 年该省货运总量超过 16 亿吨
- (2) 2009 年该省货运总量中公路货运量占 50%以上
- (3) 2007-2011 年该省铁路货运量增长最慢

- A、3 个
- B、2 个
- C、1 个
- D、0 个

(三)

进入新世纪以来，我国经济总量在世界的位次不断提升。1978 年，我国 GDP 只有 1482 亿美元，居世界第十位。经过 30 多年的快速发展，2010 年我国 GDP 达到 58791 亿美元，超过日本成为世界第二大经济体，仅次于美国。

主要农产品产量位居世界前列。2010年，我国粮食产量达到54641万吨，比1978年增长79.3%。棉花产量597万吨，增长1.8倍。油料产量3239万吨，增长5.2倍。近年来，我国谷物、肉类、籽棉、花生、茶叶、水果等农产品产量稳居世界第一位。

制造业大国地位初步确立。按照国际标准工业分类，2007年，在22个制造业大类中，我国在7个大类中名列第一，有15个大类名列前三。2009年我国制造业产出占世界的18.6%，比美国稍低1.3个百分点，位居世界第二。到目前为止，我国钢、煤、水泥、棉布等200多种工业品产量居世界第一位。

货物出口额跃居世界第一。1978年，我国货物进出口总额占世界贸易总额的比重不到1%，居世界第二十九位。2009年，我国货物出口额超过德国居世界第一位，货物进口额居世界第二位。2010年，我国货物进出口总额达到29728亿美元，创历史新高。

111、2010年，我国人均GDP大约为（ ）。

- A、1000多美元
- B、2000多美元
- C、3000多美元
- D、4000多美元

112、1978年我国粮食产量大约为（ ）。

- A、11310万吨
- B、30475万吨
- C、43330万吨
- D、68904万吨

113、2010年油料产量约比1978年增加了（ ）。

- A、2597万吨
- B、2645万吨
- C、2718万吨
- D、2809万吨

114、2009年美国和中国制造业产出之和共占世界的（ ）。

- A、38.5%
- B、19.9%
- C、17.3%
- D、35.9%

115、根据上述资料，可以推出的是：（ ）

- A、2009年，我国货物进出口总额肯定居世界第一位

- B、2009 年我国货物进出口总额在世界的位次比 1978 年至少上升了 27 位
- C、2007 年，在 22 个制造业大类中我国至少在 8 个大类中名列第三
- D、中国是世界上粮食出口量最多的国家

(四)

2016 年，全国民间固定资产投资 365219 亿元，比上年名义增长 3.2%，增速比 1-11 月份提高 0.1 个百分点。民间固定资产投资占全国固定资产投资的比重为 61.2%，比 1-11 月份降低 0.3 个百分点，比上年降低 3 个百分点。

分地区看，东部地区民间固定资产投资 164674 亿元，比上年增长 6.8%；中部地区 107881 亿元，比上年增长 5.9%，增速回落 0.1 个百分点；西部地区 71056 亿元，比上年增长 2.4%，增速回落 0.5 个百分点；东北地区 21608 亿元，比上年下降 24.4%，降幅收窄 1.6 个百分点。

分产业看，第一产业民间固定资产投资 15039 亿元，比上年增长 18.1%，增速比 1-11 月份回落 0.5 个百分点；第二产业增长 3.2%，增速较去年提高 0.3 个百分点；第三产业 167673 亿元，年度增长 2%，增速与 1-11 月份持平。第二产业中，工业民间固定资产投资 180970 亿元，比上年增长 3.4%，比 1-11 月份提高 0.3 个百分点。

2016年民间固定资产投资部分数据

指标	2016年	
	绝对量 (亿元)	比上年增长 (%)
煤炭开采和洗选业	1864	-18.3
石油和天然气开采业	240	-4.6
黑色金属矿采选业	763	-35.4
有色金属矿采选业	1034	-6.2
非金属矿采选业	2000	1.1
电力、热力生产和供应业	8416	18.4
铁路运输业	212	-29.7
道路运输业	4429	2.2
水利管理业	1186	12.8
公共设施管理业	13441	5.8
教育	2462	13.7
卫生和社会工作	2455	19.9
文化、体育和娱乐业	4059	4.1
公共管理、社会保障和社会组织	1608	-25.6

116、东北地区 2014 年民间固定资产投资额为 ()。

- A、28582 亿元
- B、29200 亿元

C、35864 亿元

D、38624 亿元

117、2015 年，民间固定资产投资占全国固定资产投资的比重为（ ）。

A、64.2%

B、61.5%

C、60.9%

D、58.2%

118、表格中绝对量最大和最小的行业 2016 年增长额之差约为（ ）。

A、647 亿元

B、688 亿元

C、786 亿元

D、827 亿元

119、表格中投资较去年变幅最大的是（ ）。

A、煤炭开采和洗选业

B、黑色金属矿采选业

C、铁路运输业

D、公共管理、社会保障和社会组织

120、根据所给资料消息，对 2016 年相关判断正确的是（ ）。

A、2016 年度，三大产业中，第三产业民间固定资产投资月增速最为平稳

B、工业民间固定资产投资占第二产业民间固定资产投资的 98%

C、民间固定资产投资的主力是东部地区的民间固定资产投资

D、各地区民间固定资产投资水平差距不明显

参考答案

1、此题可从后两空入手。由“这绝不是一句空话”所表达的坚决态度可知，“触犯了党纪国法”就必须“受到严肃追究和严厉惩处”。

A项“如果……那么……”表假设，C项“因为……所以……”表因果，两者均无法体现这种必然性，排除。B项“只要……都要……”和D项“由于……必然……”填入恰当。

第一空，分析可知，“其职务多高”与“无论什么人”并列，此处说的是无论什么人、无论什么职位，触犯党纪国法必将受到严肃追究和严厉惩处。

B项“不论”表示条件或情况不同而结果不变，与横线前的“无论”对应，填入恰当，当选。D项“即使”表示假设的让步，不能与横线前的“无论”对应，排除。

故正确答案为B。

【文段出处】《从严治党 务必“严到份上”》

2、第一空，A项“崇拜”指尊崇敬拜，对象一般是人，不能是“微信”，排除。横线后的“乃至”表递进，所填词语比“几乎不能有一朝一夕的分离”程度轻，且“几乎不能有一朝一夕的分离”体现的是人对微信的严重依赖，所填词语应表示现代人对微信很依赖、很着迷，但还未达到“几乎不能有一朝一夕的分离”这种程度。B项“痴狂”指迷恋到发狂的程度；D项“痴迷”指极度迷恋，两者相比，“痴迷”程度要轻，更符合语境。B项“痴狂”语义过重，排除。C项“眷恋”侧重于思慕、爱恋，与语境不符，排除。

验证第二空，“空虚寂寞的人们”需要的是精神层面的“慰藉”，语义恰当且为常见搭配。

故正确答案为D。

【文段出处】《微信演绎“新文化”》

3、所填词语表示家庭教育在孩子成长中的作用，由后文“父母的言行对孩子的一生具有决定性的作用”可知，家庭教育对孩子成长很重要，所填词语应体现此意。B项“不可替代”指某人或某物是不能够用他人或他物来进行代替的，能够体现“很重要”的意思，当选。A项“不二法门”比喻最好的或别无选择的方法；C项“一锤定音”原指制造铜锣时最后一锤决定锣的音色，借指凭一句话作出最后决定；两者均不能体现“很重要”的意思，排除。D项“非同小可”指情况严重或事情重要，不能轻视，一般表述为“对……的作用非同小可”“对……有着非同小可的作用”或“在……中有着非同小可的作用”，不能直接表述为“在……中非同小可的作用”，排除。

故正确答案为B。

【文段出处】《“百场家庭教育大讲坛”将讲遍八桂 解读教育新理念》

4、第一空，既然是“经典”，就具有权威性，能够经得起考验，因此“质疑”并不能让经典遭受太大的“贬值”，A项的“一文不值”和C项的“百无一用”程度过重，排除。

第二空，对比B、D项，B项“缺陷”指欠缺或不够完备的地方；D项“瑕疵”指微小的缺点。既然能成为“经典”，那么存在的缺点必然很小，D项“瑕疵”恰当。B项“缺陷”程度过重，排除。

故正确答案为D。

【文段出处】《水浒写黑帮红楼玩早恋 经典课文存废引争议》

5、第一空，文段第一句话就指明，国际市场疲软给中国经济带来了不确定性，“外汇资产缩水风险、出口贸易受到影响和输入性通胀压力上升”这些问题显然都是不利的影 响，因此横线上的词语要体现这种消极性，A项“困境”和B项“考验”都可以，保留。C项“局面”和D项“局势”都比较中性，不符合语境提示，排除。

第二空，A项“郑重”指庄严，庄重；B项“审慎”指周密而慎重。所填词语表示面对不利影响，中国需要怎样地考量应对，对应“谋定而后动”。“谋定”应该是在谨慎的审查考量之后做出的决策，“后动”指的是应对，所以第二空填入的应是“审慎”，排除A项。

验证第三空，B项“刻不容缓”指形势紧迫，一刻也不允许拖延。置于横线处表示“中国对策”的出台一刻都不能拖延，符合语境。

故正确答案为B。

【文段出处】《疲软世界的中国对策》

6、第一、二空，根据“固然……但本质上……”可知，首句为递进关系，“不仅……更……”表递进，C、D项保留。“既……又……”表并列关系的关联性，不能体现递进，排除A、B项。

第三、四空，由“但本质上反映的却是对待读者、对待群众的态度”可知，此处强调了无新意的应景报道反映的是对世情党情国情缺乏深刻认识，横线所属的两个分句并非选择关系。C项“要么……要么……”为选择关系，与文段语境不符，排除。D项“与其说……不如说……”强调的是“不如说”之后的内容，符合语境。

故正确答案为D。

【文段出处】《改进文风 务求实效》

7、根据“顿号”可知，第一空与第二空构成并列关系，所填词语语意相近，共同表示“无须经过身份验证、资格审查和学术评议等程序”可能造成的局面。“鱼目混珠”指用假的冒充真的；“鱼龙混杂”强调好的坏的掺杂在一起；“杂乱无章”指乱七八糟，没有条理；“泥沙俱下”强调好的坏的混杂在一起。经对比，只有“鱼龙混杂”和“泥沙俱下”语意相近，均形容好的坏的掺杂在一起，锁定C项，而其余三项均不能构成并列关系，排除。

故正确答案为C。

8、由“被某些人暗中频繁交易流转到各种发送垃圾短信的公司”可知，这种获取利益的方式是错误的，填入词语应含贬义。A项“谋取”、D项“获取”均为中性词，不符合文段感情色彩，排除。B项“攫取”指抓取、拿取或掠取，含贬意，符合文段感情色彩，且可以用来表示“暗中频繁交易……”的手段，当选。C项“骗取”指通过欺骗获得，在原句中 没有体现“欺骗”，排除。

故正确答案为 B。

【文段出处】《电脑成“肉鸡” 个人信息网络随意买》

9、由第一句可知，外交问题的最终决策不能仅仅让网络民意满意，而应该兼顾各方面的声音，“只要……”不符合语境，排除 B、D 项。根据最后一个分句“以外交大局为重”可知，解决外交问题最重要的还是要兼顾大局，所以横线处三个句子并非简单的并列，而是逐层递进，故排除 C 项。

故正确答案为 A。

【文段出处】《外交政策不能被“民意”左右》

10、先看第二空，所填词语对应“必须按照严格的建筑程序和监督流程进行”“每一个环节”，B 项“按部就班”指按照一定的步骤、顺序进行，符合语境。A 项“精益求精”比喻已经很好了，还要求更好；C 项“精雕细刻”形容创作艺术品时的苦心刻画，也比喻认真细致地加工；D 项“循规蹈矩”原指遵守规矩，不敢违反，现也指死守旧准则，不敢稍做变动，强调的是工作死板；三者均不如“按部就班”恰当，排除。

验证第一空，B 项“无一例外”指都是这样，没有其他特殊的，填入横线处表示建筑物都要由专业机构负责设计，符合语境。

验证第三空，“不敢有丝毫的懈怠”能体现智利人新建房屋的认真态度，填入恰当。

故正确答案为 B。

【文段出处】《智利建筑为何抗震》

11、第一空，根据空后解释“不会用”可知，这种方法可能是与时俱进的创新型方法，故人们不会使用这种办法，B 项“新办法”符合文意。A 项“硬办法”意指强硬的办法；C 项“软办法”意指较为柔和的、讲人情的办法，均在强调办法本身的特征，与“不会用”无法形成语意对应，排除。D 项“老办法”指已使用很久的办法，可知这种办法一直在被使用，故与“不会用”文意相悖，排除。

验证第二空，“老办法”已被使用很久，是过去的办法，没有与时俱进，故可能无法解决当下时代的问题，对应“不管用”正确。

验证第三空，“硬办法”因为比较强硬，故“不敢用”对应正确。

验证第四空，“软办法”比较柔和、讲究人情执法，故“不顶用”对应正确。

故正确答案为 B。

【文段出处】《依靠学习走向未来》

12、文段首句为背景介绍，阐述中国流失在海外的文物数量大、情况复杂。接着通过“如果……就……”以反面论证的方式给出对策，强调对于流失海外的文物，我们不能一味花重金购买，即要理性对待。文段最后对此进行解释说明，文物无论在什么地方，只要能够展示出来，都能起到宣传中国文化的作用。由此可知，文段主要想强调文物无论在何处，只要能展示，就能起到宣传中国文化的目的，所以对待流失海外的文物，不必一味重金购买，而是要理性看待，对应 C 项。

A项，为背景部分的内容，非重点，排除。

B项，为原因解释部分的内容，非重点，且文段主要针对的话题是流失海外的文物，即文物归还问题，而非文物保护，排除。

D项，文段说的是如果花重金购买，“就等于承认了这部分文物流失海外的合法性”，选项表述有误，排除。

故正确答案为C。

【文段出处】《把无形文化 变成有形价值》

13、文段一开始引用哲学家的话，引出本文段讨论的话题：幸福“需要自我调试和社会调整”。接下来分别从哲学家和心理学家两个角度来谈论对幸福的理解。哲学家从自身难以满足的欲望来阐发幸福，强调的是幸福需要自我调试；心理学家从社会上人与人之间收入分配是否公平而非自身收入是否充足来阐发幸福，强调幸福需要社会调整。故文段强调的是哲学家和心理学家对幸福的理解不同，对应D项。

A项，表述片面，排除。

B项，“调节好自己的心态”文段未提及，无中生有，排除。

C项，表述无中生有，文段并没有讲述幸福获取的途径是首先要降低自己的期望。

故正确答案为D。

【文段出处】《走出口水烦恼，理性看待“幸福感”》

14、文段首先提出“一带一路”需要发挥市场和企业的作用，接着通过转折关联词“但”引出重点，强调政府对于“一带一路”建设的重要作用，对应A项。

B项，为转折前内容，非重点，排除。

C项，无主题词“一带一路”，排除。

D项，为问题的表述，排除。

故正确答案为A。

【文段出处】《“一带一路”应加强统筹领导》

15、文段先由朋友圈“晒娃”引入话题，指出当下存在家长将孩子“宠物化”的现象，并详细阐述了此类现象的表现：家长对待孩子的态度仅由自己的心情决定，甚至诉诸武力。故文段强调的是这类年轻家长在养育孩子的过程中，只从自己的角度出发，将孩子视作“宠物”而非“独立个体”，没有考虑孩子的心理状况，对应D项。

A项“缺乏信息安全意识”、C项“满足虚荣心”均对应文段开头的“晒娃”这一背景，而非“宠物化”教育的主要问题所在，排除。

B项，“心智不成熟”虽能反映年轻家长在教育方面存在的问题，但与D项相比，D项“忽略孩子的心理需求”才是年轻家长“宠物化”教育背后最根本的问题，排除。

故正确答案为D。

【文段出处】《年轻父母不应把孩子“宠物化”》

16、文段为三个并列分句，分别介绍了科学技术在工匠、科学家、电脑专家手中，既能“为民造福”，也能“祸害人类”。而之所以会产生两方面完全不同的效用，关键在于工匠、科学家、电脑专家主观意识的驱使。所以文段意在强调道德指引之于科学的重大作用，结合选项应该选择C项。

A项，表述的主体是科学技术，“双刃剑”一词强调的重点在于其可能发挥不同的作用。而通过对原文的分析可知，不同作用的源头在于人的主观意识，因此从原文出发，A项表述不够具体，排除。

B项，选项虽然提及“道德”，但“把握”一词使用不当，排除。

D项，偏离了文段主旨，未将“科学技术”这一关键词提炼概括出来，排除。

故正确答案为C。

17、文段主要阐述了一些人的大学教育缺乏实用性，导致很难找到工作，通过去技校“回炉”后全部找到了工作。由此可知，文段中的“回炉”指的就是一些大学生到技校学习利于就业的职业技能，对应C项。

A项，“留级”表述错误，文段说的是去职业院校再学习，而非“留级”，排除。

B项，“重回大学校园学习”表述不明确，文段说的是去职业技术学校学习，排除。

D项，“培养合格毕业的大学生”表述错误，文段中未找到工作的大学生并非是不合格毕业，而是所学不实用，排除。

故正确答案为C。

【文段出处】《“大学生农民工”三大困局：心理理解困很必要》

18、由横线前的“也是这样”可知，政府对经济的干预应借鉴前文端咖啡的例子。前文端咖啡的例子中，阐述了人设法使咖啡的液面平衡，但越是设法平衡，液面越无法平衡，大胆地走反而不会溅出杯子。所以，政府对经济的干预也是同样的道理，过分干预会出问题，大胆放手反而发展很好，最符合这个意思的是B项。

A项，“反而没问题”表述太绝对，任其发展可能也会出现问题，排除。

C项，没有指出政府干预经济会怎么样，表述不全面，排除。

D项，说法太绝对，干预不一定总是走向反面，排除。

故正确答案为B。

19、文段第一句话就点明重点，强调我们在为实现中国梦而奋斗。后文具体阐述了实现中国梦的重要意义。由此可知，文段为总分结构，首句为观点句，对应A项。

B、C项，均未强调“奋斗”，排除。

D项，未涉及文段的主题词“中国梦”“奋斗”，排除。

故正确答案为A。

【文段出处】《文明交流互鉴是推动人类文明进步和世界和平发展的重要动力》

20、文段首先引用古文阐述了一种观点，“经历严峻的考验，方可知晓谁才是真正坚强的人”。之后用反问的形式引出文段的重点，也就是肯定“顺风顺水的环境也可以试炼出一个人的意志、品格”。

C项，“日常工作”对应“顺风顺水的环境”，“能够考验一个人的意志”符合文段想要表达的内容，当选；

A项，与反问句表达的观点相左，排除；

B项，违背反问句质疑的观点，也是文段中引出论点的部分，非重点，排除；

D项，“了解”表述不准确，文段说的是“试炼”，排除。

故正确答案为C。

21、由“没有没出息的工作”可知，父亲话中强调的是“工作”的平等性，即工作没有高低贵贱之分，只要努力去做，行行都能出状元，对应C项。

A、B、D项：“自主择业”、“自主创业”强调依靠自己，“竞争就业”强调优胜劣汰的过程，三者文段均未涉及，无中生有，排除。

故正确答案为C。

22、横线出现在文段中间，需关注上下文联系，且横线处应与上下文话题一致。前文讲到空气污染是工业化和城市化进程的伴生物，接着举例进行说明。后文讲到通过完善城市大气环境质量的监测以及提高监测信息的透明度有诸多的好处。故横线处所填语句应表达与完善监测、提高监测信息的透明度相关的意思。D项“环境信息公开”对应“透明度”，当选。

A项：“公众健康风险意识”对应后文“提高全社会对大气污染问题的关注”，属于环境信息公开后的意义效果之一，排除。

B项：“现行的空气质量标准已不能适应当前环保要求”文段未涉及，无中生有，排除。

C项：“加强环境法制建设”文段未涉及，无中生有，排除。

故正确答案为D。

23、根据提问方式可知，本题为接语选择题，重点关注文段尾句。文段尾句讲到“它踌躇满志，望着那壮阔的河流和繁茂而荒野的两岸”，“它”指代不明，再看前文。文段开篇讲到河的两岸风光旖旎，接下来描述“西岸”的风景，又讲到一头年迈的野牛劈开波涛，游到河心小岛上，卧在高深的草丛里。故“它”指代的是一头年迈的野牛，文章接下来最有可能介绍的就是以这头老野牛的视角观察到的“东岸”的景色，对应D项。

A项：“传说”与文段尾句话题不一致，排除。

B项：“其他野生动物”与文段尾句话题不一致，排除。

C项：“自己的家乡”与文段尾句话题不一致，排除。

故正确答案为D。

【文段出处】《密西西比河风光》

24、对比选项，确定首句。

④句“其喷发力”指代不清，不适合做首句，排除C项。通过观察可知，④句讲到“超级火山爆发”“将岩浆喷到25公里的高空”，①句讲到“引发剧烈的山崩地裂，引发大面积地震和惊天海啸，从而带来遍地浩劫”，两句是因果关系，④句是“因”，①句是“果”，故④①两句捆绑，排除A、B项。

故正确答案为D。

【文段出处】《黄石公园“超级火山”已进入喷发周期》

25、对比选项，确定首句。

②句中含有代词“那里”，若放句首则指代不明，故排除B、C项。

对比A、D项，区别在于②⑥⑤与①③的前后位置。⑥⑤两句描述的是硅谷的变化，而①③两句则是对这一变化的进一步总结，由此可知，①③两句应该在⑥⑤两句之后，排除D项。

故正确答案为A。

【文段出处】《从新罕布什尔到硅谷 美利坚平衡启示》

26、本题考查病句知识。

A项错误，成分残缺，缺主语。

B项错误，应删去“的”。

C项正确，没有语病。

D项错误，句式杂糅，可以改为“看到了领导的批示，小赵心里的一块石头终于落了地。”

故正确答案为C。

27、本题考查语句解析。

“巧夺天工”是指精巧的人工胜过天然，不能用来形容自然景观。B项的“三峡”、C项的“苍山”“洱海”、D项的“自然景观”均形容的是自然景观，排除。A项“巧夺天工”形容的是“冰雕”，为人工技艺，与“巧夺天工”搭配得当。

故正确答案为A。

28、本题考查词语知识。

A项中应该是“范畴”和“绵里藏针”。

B项中应该是“妨害”和“铤而走险”。

C项中应该是“枯燥”和“因噎废食”。

D项中没有错别字。

故正确答案为D。

29、本题考查词语知识。

“声气”指说话时的语气、语调，也指消息、信息，B中解释错误，排除B；

“临危授命”是指在危急关头勇于献出生命，C中解释错误，排除C；

“虚辞”是指浮夸不实的言语，与实词相对的应为“虚词”，D中解释错误，排除D。

故正确答案为A。

30、本题考查成语知识。

填入横线的词是用来形容“视觉幻象”的，与前文中“写实”一词对应可知，康有为、梁启超一辈惊叹的是视觉效果的逼真，故可以排除A项用来比喻事物复杂，无法分辨清楚的“眼花缭乱”和C项用来形容形象奇特、色彩斑斓的“光怪陆离”。

B项“惟妙惟肖”与D项“栩栩如生”均可表达逼真，但前者更侧重于模仿或描写，与“视觉幻象”搭配不够准确；后者则侧重于表达十分逼真，像活的一样，与前文的“写实”对应更为恰当。

故正确答案为D。

【文段出处】《写实绘画不是未来艺术市场的收藏方向》

31、本题考查实词填空。

由题干可知，括号内的词语应该与“应用”相搭配，C项“普及”不符合搭配习惯，予以排除。

从词义上来讲，“广泛”指涉及的方面广、范围大，普遍；“深入”指研究、思考深刻、透彻；“全面”指完整、周密。根据语境形容“计算机技术的应用”，“广泛”最为恰当。

故正确答案为A。

32、本题考查实词填空。

根据“从解剖学来看”，可知要填入表示解剖学研究结果的词语。解剖学主要研究生命体的结构和组织，B项“特征”表示一种事物异于其他事物的特点，符合文意，且与“人类”搭配恰当，当选；D项“特质”表示内在素质，与文意无关，排除；A、C项“外形”、“样貌”只是特征的一个方面，且属于人类的表面特征，与“解剖”语意不符，排除。

故正确答案为B。

【文段出处】《现代人起源在中国？贵州重大发现震撼全球》

33、本题考查实词填空。

观察选项，“适应”指适合（客观条件或需要），一般是指某种生物遇见一种陌生环境，使自己逐渐适合这种陌生环境。“熟悉”指知道得清楚。由逻辑关系可知，应该是先“适应”再“熟悉”，故排除A、B、D项。

故正确答案为C。

【文段出处】《京剧札记》

34、本题可先从第二空入手，由横线后“却”可知，所填词语与后文“剪不断、理还乱”语义相反，故B项“简单”、C项“清晰”符合文意，保留。A项“独立”指脱离原来所属单位，成为另一单位，与文意不符，排除。D项“系统”与“剪不断、理还乱”无法构成转折关系，排除。

第一空，B项“迷惑”能对应后文“较为抽象”，符合文意，当选。C项“新颖”在文段中无从体现，排除。故正确答案为B。

【文段出处】《人类史上最著名的十大思想实验》

35、第一空，空白处填入的词语是用以表达“哲学对史学研究的作用”，C项“指导”最恰当。A项“指引”多与“方向”搭配，不合适，故排除；D项“指点”意为指出来使人知道，或者在旁边挑剔毛病、在背后说人不是。主语通常是人，不符合语境，故排除。

再看第四空，空白处填入的成语需同时与横线前的“见枯木以为树林”、横线后的“见小遗大”形成照应，就B、C项比较来看，C项“以偏概全”更为合适，横线前的“枯木”就是“偏”，而“树林”就是“全”。

第二空和第三空对答案进行验证，根据后面的“拾芝麻以为玃珠，袭陈言而自诩多闻”，可知，此处应填入两个褒义词，来与前面的堆砌资料和叠床架屋形成对比，“博”和“精”符合语境。

故正确答案为C。

【文段出处】《学点哲学 懂点历史 读点文学》

【成语积累】

“窥斑见豹”从竹管的小孔里看豹，只看到豹身上的一块斑纹。比喻只看到事物的一部分，或者比喻可以从观察的部分推测到全貌。

“以管窥天”通过竹管子的孔看天。比喻见闻狭隘或看事片面。

36、A项：文段说的是“如果人们都降低自己的底线，社会的底线一定下降”，但不能反过来说社会的底线下降时每个人心中的底线都下降，该项表述错误，当选；

B项：由“如果人人守住底线，社会便拥有一条美丽的水准线——文明”可知，文段中逻辑为“每个人守住底线”推出“社会文明”，该项表述正确，排除；

C项：由“如果人们都降低自己的底线，社会的底线一定下降”可知，该项表述正确，排除；

D项：由“守住底线，既是为了成全社会，也是成全自己”可知，该项表述正确，排除。

本题为选非题，故正确答案为A。

【文段出处】《底线》

37、本题考查中心理解。

阅读可知，总结关联词“因此”引出文段主旨，即学会如何学习远比掌握现成的知识更重要，与D项语意一致。

A、B、C项均未涉及“如何学习”，即“学习方法”，偏离文段主旨。

故正确答案为D。

38、本题考查中心理解。

作者认为从事研究工作的科学家“是一个小孩儿”，是在比喻科学家从事研究工作时的一种状态，而不是讲科学，也不是比喻小孩本身，故排除 A、D 项；C 项是居里夫人的状态，予以排除。

故正确答案为 B。

【文段出处】《我的信念》

39、由提问可知为细节判断题。

依据文段“这应该是加班加点‘利’的一面”可知，“加班加点”在作者看来存在弊端，故 A 项“应大力提倡”显然与作者意图相悖，A 项错误；由“当然值得肯定，其精神和热情不容亵渎”可知，B 项正确；由“这应该是加班加点‘利’的一面”可知，加班加点也可能存在着“弊”的一面，C 项正确；由“与各行各业加班加点‘蔚然成风’分不开”可知，D 项正确。

本题为选非题，故正确答案为 A。

【文段出处】《“加班加点”利弊谈》

40、文段首句指出“美丽的灵魂可以赋予一个并不美丽的身躯以美感”，后文通过“正如”举例论证，故文段为总分结构，故重点为美丽的灵魂并不一定拥有美丽的身躯，对应 B 项。

A、D 项：“丑恶的灵魂”，属于例子部分，非重点，排除。

C 项：灵魂美丽比身躯美丽更重要，无关对比，排除。

故正确答案为 B。

41、本题考查中国特色社会主义理论体系。

A 项错误，2005 年 12 月，十届全国人大常委会第十九次会议通过决定，自 2006 年 1 月 1 日起废止《农业税条例》。这意味着从 2006 年开始，将在全国范围内全面彻底取消农业税，延续了 2600 年的农业税将宣告终结。

B 项正确，《中共中央国务院关于促进农民增收若干政策的意见》指出：“（十七）深化粮食流通体制改革。从 2004 年开始，国家将全面放开粮食收购和销售市场，实行购销多渠道经营……为保护种粮农民利益，要建立对农民的直接补贴制度。2004 年，国家从粮食风险基金中拿出部分资金，用于主产区种粮农民的直接补贴。其他地区也要对本省（区、市）粮食主产区（市）的种粮农民实行直接补贴。要本着调动农民种粮积极性的原则，制定便于操作和监督的实施办法，确保补贴资金真正落实到农民手中。”

C 项错误，2004 年 10 月 11 日，农业部下发了《关于推进农业科技入户工作的意见》，标志着以提升农户科技示范能力建设为重点的“科技入户工程”正式拉开了序幕。农业科技入户的目的是提高农民科学文化素质和科技应用水平，加速农业科技进步与创新，并非“全面放开收购市场”的配套政策。

D 项错误，2003 年 10 月 14 日，中国共产党第十六届中央委员会第三次全体会议通过了《中共中央关于完善社会主义市场经济体制若干问题的决定》，《决定》提出：“实行最严格的耕地保护制度，保证国家粮食安全。”

故正确答案为 B。

42、本题考查政治。

A 项错误，“三个臭皮匠，赛过诸葛亮”体现了两个哲学原理，一是人民群众是历史的创造者，是真正的英雄；二是量的优势可弥补质的不足。

B 项错误，“城门失火，殃及池鱼”体现了事物的普遍联系原理，即一切事物总是和其他事物有条件地联系着。

C 项正确，“近水知鱼性，靠山识鸟音”意思是临近水边，久而久之自然就了解了鱼的习性特点；靠近山林，久而久之自然就能辨识各种不同的鸟儿的不同的鸣叫声。这说明要了解一个人或一种东西，一定要接近这个人或近距离观察这种事物，即实践是认识的来源。

D 项错误，“星星之火，可以燎原”体现了质变和量变的辩证关系原理，即量变是质变的必要准备，质变是量变的必然结果。

故正确答案为 C。

43、本题考查政治。

2019 年 9 月 12 日，红军长征湘江战役纪念设施落成仪式在桂林市全州县举行。中共中央政治局委员、中央书记处书记、中宣部部长黄坤明出席活动并讲话。中央军委委员、政治工作部主任苗华主持落成仪式，广西壮族自治区党委书记、自治区人大常委会主任鹿心社致辞。

故正确答案为 B。

44、本题考查中国特色社会主义理论体系。

①1992 年 6 月，中央召开了“长三角及长江沿江地区经济规划座谈会”，提出发展“长三角及长江沿江地区经济”的战略构想，“长三角和沿江地区”发展首次上升为国家战略。

②“珠三角”概念首次正式提出是 1994 年 10 月 8 日，广东省委在七届三次全会上提出建设珠江三角洲经济区。“珠三角”最初由广州、深圳、佛山、珠海、东莞、中山、惠州 7 个城市及惠州、清远、肇庆三市的一部分组成。

③1996 年，《中华人民共和国国民经济和社会发展“九五”计划和 2010 年远景目标纲要》提出要依托沿海大中城市，形成以辽东半岛、山东半岛、京津冀为主的环渤海综合经济圈。环渤海地区包括北京、天津两大直辖市及河北、辽宁、山东、山西和内蒙古中部地区，共五省（区）二市。

④2004 年 3 月，国务院首次明确提出“中部崛起”概念，旨在促进中国中部经济区——河南、湖北、湖南、江西、安徽和山西 6 省共同崛起。

故按照时间排序为①②③④。

故正确答案为 A。

45、本题考查法律常识。

张某和王某为合伙行为，《民法通则》第三十五条规定：“合伙的债务，由合伙人按照出资比例或者协议的约定，以各自的财产承担清偿责任。 合伙人对合伙的债务承担连带责任，法律另有规定的除外。偿还合伙债务超过自己应当承担数额的合伙人，有权向其他合伙人追偿。”

债务由全体合伙人以各自的财产承担偿还责任，各个合伙人按照合伙协议约定的比例承担债务的一部分，但是同时又对整个合伙债务负连带清偿责任。即对外，所有的合伙人均负有清偿所有合伙债务的责任，债权人可以向任一合伙人或所有合伙人请求清偿其所有债务。当对外清偿了债务之后，超过自己应当承担的份额合伙人有权向其他合伙人追偿。合伙债务的承担比例没有约定的，可以出资比例定；无出资比例的，可以盈余分配比例定；无盈余分配比例的就以均额定。但是对造成合伙经营亏损有过错的合伙人，应当根据其过错程度相应承担更多责任。

故正确答案为 A。

46、本题考查经济。

A 项正确，银行利率分为存款利率和贷款利率。如果银行存款利率升高，人们会更愿意把钱存入银行，从而减少对房地产的投资，从而影响房地产的价格，反之亦然；如果银行贷款利率升高，有意通过按揭买房的人们面临的资金压力会增加，从而减少购房需求，影响房地产价格，反之亦然。

B 项正确，当人口增长率升高，人们对房子的需求会增加，也会提高房地产的价格，反之亦然。

C 项错误，自然失业率是充分就业下的失业率，是不会造成通货膨胀和通货紧缩的失业率，也是劳动市场处于供求稳定状态的失业率。从整个经济看来，任何时候都会有一些正在寻找工作的人，经济学家把在这种情况下的失业称为自然失业率。因是充分就业下的失业率，故自然失业率不会对房价产生波动。

D 项正确，通货膨胀率升高，那就意味发行的货币变多了，货币贬值，物价就会升高，这样也会影响房地产价格，使之升高，反之亦然。

本题为选非题，故正确答案为 C。

47、本题考查经济常识。

A 项正确，加快产业升级是我国经济转型的要求，通过产业升级，可以创造更多的就业机会，从而吸纳更多劳动力就业。

B 项错误，发展劳动密集型产业与我国的产业升级政策不符。

C 项错误，企业最低工资标准是保护劳动者的重要政策之一，故不能取消或者降低。

D 项错误，失业率控制标准是社会稳定的重要前提，故不能放松。

故正确答案为 A。

48、本题考查政治。

2001 年 9 月 26 日中国共产党第十五届中央委员会第六次全体会议通过了《中共中央关于加强和改进党的作风建设的决定》。《决定》指出：“加强和改进党的作风建设，必须把思想作风建设摆在第一位。坚持解放

思想、实事求是的思想路线和思想作风，是党顺应时代进步潮流、永葆先进性的根本要求。全党必须从我国社会主义初级阶段的实际出发，从不断发展变化的国际形势出发，求真务实，锐意进取，努力开拓马克思主义理论发展的新境界，开创党和国家事业发展的新局面。”

故正确答案为 C。

49、本题考查经济常识。

通货膨胀指在货币流通条件下，因货币供给大于货币实际需求，导致货币贬值，而引起的一段时间内物价持续而普遍地上涨的现象。其实质是社会总需求大于社会总供给（供远小于求）。货币政策是指政府或中央银行行为影响经济活动所采取的措施，尤指控制货币供给以及调控利率的各项措施。紧缩性货币政策旨在通过控制货币供应量，使利率升高，从而达到减少投资，压缩需求的目的。总需求的下降，会使总供给和总需求趋于平衡，降低通货膨胀率。

故正确答案为 A。

50、本题考查法律常识。

A 项正确，道德与法律都属于社会规范的范畴，都能对个人行为有限制、约束的规范性功能。

B 项错误，法律与道德均各有自己的规定范围，违反法律不一定违反道德，如结婚只摆宴席而不领取结婚证，虽然违反法律，但是不违反道德。违反道德的行为不一定是违法行为，如在拥挤的公交车上身体健康的年轻人不给老弱病残孕让座，虽然违反道德，但并不违法。

C 项正确，法律是由国家制定并强制实施的行为规范，道德是依靠人们的内心信念、传统习惯和思想教育调整行为的规范。

D 项正确，法律和道德可以相互促进。道德是维护法律的重要精神力量，对法律的制定具有指导意义，而法律能够为社会道德的生成提供有益的制度构架，为个人道德培育提供良好生活环境。

本题为选非题，故正确答案为 B。

51、本题考查法律常识。

根据《宪法》第九十三条规定：“中华人民共和国中央军事委员会领导全国武装力量。中央军事委员会由下列人员组成：主席，副主席若干人，委员若干人。中央军事委员会实行主席负责制。中央军事委员会每届任期同全国人民代表大会每届任期相同。”

故正确答案为 B。

52、本题考查法律常识。

A 项正确，《宪法》第一百零一条规定：“地方各级人民代表大会分别选举并且有权罢免本级人民政府的省长和副省长、市长和副市长、县长和副县长、区长和副区长、乡长和副乡长、镇长和副镇长。”

B 项错误，《宪法》第九十条规定：“（国务院）各部、各委员会根据法律和国务院的行政法规、决定、命令，在本部门的权限内，发布命令、指示和规章。”《行政许可法》第十四条规定：“本法第十二条所列事

项，法律可以设定行政许可。尚未制定法律的，行政法规可以设定行政许可。必要时，国务院可以采用发布决定的方式设定行政许可。”因此，国务院各部可以制定规章，但不可以设定行政许可。

C项正确，《宪法》第八十九条规定：“国务院行使下列职权：（一）根据宪法和法律，规定行政措施，制定行政法规，发布决定和命令。”

D项正确，《宪法》第六十七条规定：“全国人民代表大会常务委员会行使下列职权：……（五）在全国人民代表大会闭会期间，审查和批准国民经济和社会发展计划、国家预算在执行过程中所必须作的部分调整方案。”

本题为选非题，故正确答案为B。

53、本题考查法律常识。

A、B项正确，D项错误，《最高人民法院关于适用〈中华人民共和国婚姻法〉若干问题的解释（三）》第七条规定：“婚后由一方父母出资为子女购买的不动产，产权登记在出资人子女名下的，可按照婚姻法第十八条第（三）项的规定，视为只对自己子女一方的赠与，该不动产应认定为夫妻一方的个人财产。”因此，该房屋应认定为乙父母对乙的个人赠与，为乙的个人财产，不能进行分割。

C项正确，《婚姻法》第十七条规定：“夫妻在婚姻关系存续期间所得的下列财产，归夫妻共同所有：（一）工资、奖金；（二）生产、经营的收益；（三）知识产权的收益；（四）继承或赠与所得的财产，但本法第十八条第三项规定的除外；（五）其他应当归共同所有的财产。夫妻对共同所有的财产，有平等的处理权。”房屋租金属于经营收益，是夫妻共同财产。

本题为选非题，故正确答案为D。

54、本题考查法律常识。

A项正确，侵占罪是指以非法占有为目的，将代为保管的他人财物、遗忘物或者埋藏物非法占为己有，数额较大，拒不交还的行为。乙将代为保管的财物非法占有，构成侵占罪。

B项错误，国家工作人员利用职务上的便利，挪用公款归个人使用，进行非法活动的，或者挪用公款数额较大、进行营利活动的，或者挪用公款数额较大、超过三个月未还的，是挪用公款罪。乙并非国家工作人员，也并没有挪用公款，不构成挪用公款罪。

C项错误，贪污罪是指国家工作人员利用职务上的便利，侵吞、窃取、骗取或者其他手段非法占有公共财物的行为。乙并非国家工作人员，也并没有非法占有公共财物的行为，不构成贪污罪。

D项错误，巨额财产来源不明罪是指国家工作人员的财产或者支出明显超过合法收入，差额巨大，本人不能说明其来源是合法的行为。乙并非国家工作人员，不构成巨额财产来源不明罪。

故正确答案为A。

55、本题考查法律常识。

《民事诉讼法》第四十四条规定：“审判人员有下列情形之一的，应当自行回避，当事人有权用口头或者书面方式申请他们回避：（一）是本案当事人或者当事人、诉讼代理人近亲属的；（二）与本案有利害关系的；（三）与本案当事人、诉讼代理人有其他关系，可能影响对案件公正审理的。审判人员接受当事人、诉讼代理人请客送礼，或者违反规定会见当事人、诉讼代理人的，当事人有权要求他们回避。”

A 项正确，该项中甲是本案的案件当事人，应当回避。

B 项正确，该项中甲是当事人的表哥，可能影响对案件公正审理，应当回避。

C 项正确，该项中甲是当事人的近亲属，应当回避。

D 项错误，该项中甲是当事人的同学，与本案无利害关系，甲可不予回避。

本题为选非题，故正确答案为 D。

56、本题考查科技常识。

第一台电子计算机于 1946 年 2 月在美国宾夕法尼亚大学问世，是美国奥伯丁武器试验场为了满足计算弹道需要而研制成的。

量子力学，为物理学理论，是研究物质世界微观粒子运动规律的物理学分支，主要研究原子、分子、凝聚态物质，以及原子核和基本粒子的结构、性质的基础理论。它与相对论一起构成现代物理学的理论基础。19 世纪末，人们发现旧有的经典理论无法解释微观系统，于是经由物理学家的努力，在 20 世纪初创立量子力学，解释了这些现象。

世界上第一个航天器是苏联 1957 年 10 月 4 日发射的“人造地球卫星 1 号”。

转基因水稻是指通过转基因技术将不同品种水稻或近缘物种的抗虫基因、抗病基因等导入某种水稻基因组内培育出的水稻品种，研究开始于 20 世纪后期。

因此按时间排序应为（2）（1）（3）（4）。

故正确答案为 B。

57、本题考查科技常识。

A 项正确，食盐腌制食物时，细菌等微生物处在高浓度盐溶液（高渗环境或高渗透压）中，由于外部浓度远远大于微生物内部浓度，微生物内部水分向外渗透，甚至脱水死亡，其生理活动受到抑制。另外，所谓溶液渗透压，简单地说，是指溶液中溶质微粒对水的吸引力。溶液渗透压的大小取决于溶液中溶质微粒的数目：溶质微粒越多，即溶液浓度越高，对水的吸引力越大，溶液渗透压越高；反过来，溶质微粒越少，即溶液浓度越低，溶液渗透压越低。

B 项正确，真空包装将空气隔绝，杜绝需氧菌滋生，延长食物保存期。

C 项正确，氮气化学性质不活泼，不会与食物发生反应，而且可以隔绝氧气，避免食物因氧化变质。

D 项错误，低温（冷藏）可以抑制细菌的生理活动，但不会冻死细菌。

本题为选非题，故正确答案为 D。

58、本题考查科技常识。

青藏高原，亚洲内陆高原，是中国最大、世界海拔最高的高原，被称为“世界屋脊”、“第三极”，南起喜马拉雅山脉南缘，北至昆仑山、阿尔金山和祁连山北缘，西部为帕米尔高原和喀喇昆仑山脉，东及东北部与秦岭山脉西段和黄土高原相接。印度板块与欧亚板块相碰撞导致了青藏高原的形成，地质学上把高原崛起这段时间的地质构造运动称为喜马拉雅运动。

故正确答案为B。

59、本题考查科技常识。

喀斯特地貌是具有溶蚀力的水对可溶性岩石进行溶蚀作用等所形成的地表和地下形态的总称，又称岩溶地貌。除溶蚀作用以外，还包括流水的冲蚀、潜蚀以及坍塌等机械侵蚀过程。中国喀斯特地貌分布广、面积大，主要分布在西部地区的碳酸盐岩出露地区，其中以广西、贵州和云南东部所占的面积最大，是世界上最大的喀斯特区之一。

A项正确，云南石林因其发育演化的古老性、复杂性、多期性和珍稀性以及景观形态的多样性，成为世界上反映喀斯特地质地貌遗迹的典型范例和“石林”二字的起源地，并具有很高的旅游地学科普价值。

B项正确，张家界地层复杂多样，主要有山地、岩溶、丘陵、岗地和平原等，山地面积占总面积的76%，其中最具特色的是石英砂岩峰林地貌，为世界罕见，属于喀斯特地貌。

C项错误，丹霞地貌即以陆相为主的红层发育的具有陡崖坡的地貌。武夷山位于江西与福建西北部两省交界处，是中国著名的风景旅游区和避暑胜地，属典型的丹霞地貌。

D项正确，象鼻山原名漓山，位于广西区桂林市内桃花江与漓江汇流处，因酷似一只站在江边伸鼻豪饮漓江甘泉的巨象而得名，被称为桂林山水的象征，属于喀斯特地貌。

本题为选非题，故正确答案为C。

60、本题考查科技常识。

北回归线是指太阳光线能够直射在地球上最北的界线，其纬度值为黄赤交角，是一条重要纬线，大约在北纬 $23^{\circ} 26'$ （一般可估算为 23.5° ）的地方。北回归线又名夏至线，每年夏至时太阳光几乎直射北回归线，此时北半球各地的白昼时间达到全年最长。北回归线自西向东穿过我国云南、广西、广东、台湾四省区。

故正确答案为C。

61、本题考查法律常识。

根据《中华人民共和国突发事件应对法》第四十二条第一款第二款规定：“国家建立健全突发事件预警制度。可以预警的自然灾害、事故灾难和公共卫生事件的预警级别，按照突发事件发生的紧急程度、发展势态和可能造成的危害程度分为一级、二级、三级和四级，分别用红色、橙色、黄色和蓝色标示，一级为最高级别。”

故正确答案为D。

62、本题考查人文常识。

A 项正确，官渡之战是东汉末年曹操大败袁绍的以少胜多的战役。曹操以两万兵力在官渡迎战袁绍十万大军，最终歼敌七万，赢得官渡之战的胜利，奠定了曹操统一北方的基础。

B 项错误，桂陵之战又称为围魏救赵，战国时期魏国攻打赵国，齐国派田忌和孙臏前往救援，引兵直逼魏都大梁，使得魏国回师救援，齐军乘着魏军疲惫以逸待劳，大败魏军。

C 项正确，淝水之战，是东晋十六国时期北方的统一政权前秦向南方东晋发起的侵略吞并的一系列战役中以少胜多的决定性战役，前秦出兵伐晋，于淝水（现今安徽省寿县的东南方）交战，最终东晋仅以八万军力大胜八十余万前秦军。

D 项正确，赤壁之战是中国历史上第一次在长江流域进行的大规模江河作战，是一次以少胜多的著名战役。孙权、刘备联军于建安十三年（208 年）在长江赤壁（今湖北省赤壁市西北）一带大破八十万曹军，奠定了三国鼎立的基础。

本题为选非题，故正确答案为 B。

63、本题考查人文常识。

①“北师覆没威海卫，签订条约在马关”反映的事件是中日甲午战争和签订《马关条约》，发生在 19 世纪 90 年代。

②“鸦片带来民族难，销烟虎门海滩前”反映的事件是 1839 年林则徐的虎门销烟。

③“武装起义占三镇，武昌汉口和汉阳”反映的事件是 1911 年武昌起义。

按照时间先后的顺序是②①③。

故正确答案为 D。

64、本题考查人文常识。

A 项错误，《论语》，主要记录孔子及其弟子的言行，较为集中地体现了孔子的政治主张、伦理思想、道德观念及教育原则等，是儒家学派的经典著作之一，与《大学》《中庸》《孟子》并称“四书”。

B 项错误，《孟子》，记载了孟子及其弟子的政治、教育、哲学、伦理等思想观点和政治活动。

C 项正确，《大学》出自《礼记》，原本是《礼记》四十九篇中的第四十二篇，“修身、齐家、治国、平天下”出自《大学》，原文为：物格而后知至，知至而后意诚，意诚而后心正，心正而后身修，身修而后家齐，家齐而后国治，国治而后天下平。

D 项错误，《中庸》，是中国古代论述人生修养境界的一部道德哲学专著，是儒家经典之一，原是《礼记》第三十一篇，其内容肯定“中庸”是道德行为的最高标准。

故正确答案为 C。

65、本题考查人文常识。

A 项正确，“秦时明月汉时关，万里长征人未还”出自唐代诗人王昌龄的《出塞二首·其一》。

B项错误，“黄沙百战穿金甲，不破楼兰终不还”出自唐代诗人王昌龄的《从军行七首·其四》。

C项错误，“葡萄美酒夜光杯，欲饮琵琶马上催”出自唐代诗人王翰的《凉州词二首·其一》。

D项错误，“战士军前半死生，美人帐下犹歌舞”出自唐代诗人高适的《燕歌行》。

故正确答案为A。

66、本题考查文化常识，主要考查民俗方面知识。

A项错误，剪窗花是中国古老的传统民间艺术之一，过去春节时期家家户户都要剪窗花。踏青一般指初春时到郊外散步游玩，以清明出游踏青居多。孔明灯又叫天灯，俗称许愿灯，又称祈天灯。是一种古老的中国手工艺品，在古代多做军事用途。现代人放孔明灯多作为祈福之用。客家风俗中一般在元宵节前后会放“孔明灯”祈福。放风筝是民间传统游戏之一，清明节的节日习俗。

B项错误，饮菊花酒和佩茱萸是中国农历九月初九重阳节的节日习俗。赏月是中国农历八月十五中秋节的节日习俗。猜灯谜是中国农历正月十五元宵节的节日习俗。

C项错误，赏菊花也是重阳节的节日习俗。孔明灯又叫天灯，俗称许愿灯，又称祈天灯。是一种古老的中国手工艺品，在古代多做军事用途。现代人放孔明灯多作为祈福之用。客家风俗中一般在元宵节前后会放“孔明灯”祈福。插柳是我国清明节时期的风俗。贴春联是我国农历春节的习俗。

D项正确，端午节为每年农历五月初五。端午节最初是用作举行龙图腾崇拜活动的节日，后来楚国诗人屈原在该日抱石跳汨罗江自尽，人民又用此节日纪念屈原。端午节当天要举行赛龙舟、插菖蒲等活动，同时还要吃粽子、饮雄黄酒、栓五色丝线、戴香包等。

故正确答案为D。

67、本题考查人文常识。

蒙古族，是中国的少数民族之一，代表性传统乐器为马头琴；代表性传统节日为那达慕大会；代表性民间文学作品为《嘎达梅林》。

回族，是我国人口较多的一个少数民族，普遍信仰伊斯兰教，代表性传统乐器为牛头坝；传统节日有开斋节、古尔邦节和圣纪节等；《穆斯林的葬礼》是霍达创作的以回族人物为主人公的一部长篇小说。

藏族，是中国的少数民族之一，青藏高原的原住民，其传统食物有酥油茶、青稞酒等；传统乐器主要有铜钦、札木聂等；代表性传统节日为雪顿节；代表性文学作品为《格萨尔王传》。

维吾尔族，是中国的少数民族之一，传统食物有馕、抓饭等；传统乐器主要有“独他尔”和“热瓦甫”；传统节日有古尔邦节和开斋节等；代表性民间故事为《阿凡提的故事》。

壮族，是中国的少数民族之一，代表性传统乐器为天琴；代表性传统节日为“三月三”歌节；《刘三姐》是民族歌剧，取材于壮族歌仙刘三姐的传说故事。

故正确答案为D。

68、A项正确，展示了美、英、法、日四个国家影响力的文化符号；

B项错误，哈佛大学是美国一所著名大学，白金汉宫是英国的王宫；

C项错误，金色大厅是奥地利维也纳的著名音乐厅；

D项错误，劳斯莱斯是世界顶级豪华轿车厂商，1906年成立于英国，芭比娃娃则是美国的。

故正确答案为A。

69、本题考查人文常识。

“积极救世，讲求道德”是典型儒家学派的思想，契合儒家“入世”的思想和“仁者爱人”的道德情操。

“超凡脱俗，清静自然”是典型道家学派的思想，契合道家“无为而治”的主张和“逍遥”的生活态度。

故正确答案为A。

70、本题考查管理学。

“一山难容二虎”指的是一个集体中不能有两个核心领导。从管理角度看，需要集权管理的组织不能允许有多个直线领导核心。

组织管理需要集中统一，多头管理、“政出多门”的最大原因就是权力、职责不明确，如果有多名领导者的意见不统一，必将导致下属在工作过程中无所适从，降低管理效率，严重的还可能影响到管理的正常进行。

故正确答案为B。

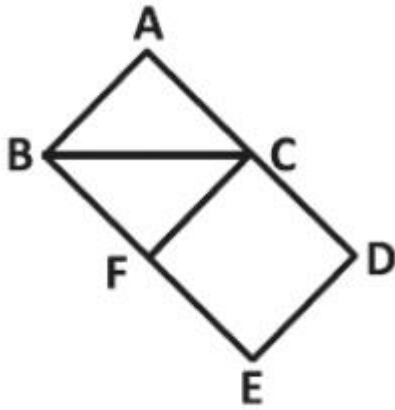
71、观察题干所给算式“ $33 \times 34 = 1122$ ， $333333 \times 333334 = 111111222222$ ”，发现算式中因数33、333333的数位长度与计算结果中数字“1”、“2”的个数相等。算式 33333×33334 中因数33333数位长度为5，则计算结果中“1”、“2”的个数为5个，即 $33333 \times 33334 = 1111122222$ 。

故正确答案为D。

72、属相的周期为12，从2013年开始，每过12年是农历蛇年，所以在21世纪余下的年份里2025年、2037年、2049年、2061年、2073年、2085年、2097年都是蛇年，则还有7个蛇年。

故正确答案为C。

73、当木桶倾斜 45° 时，倒出的溶液是腰为50cm的三角形 ABC 部分（如下图），因 $\angle BAC = 90^\circ$ ， $\angle ABC = 45^\circ$ ，则 $\angle ACB = 45^\circ$ ，故 $AC = AB = CF = BF = 50\text{cm}$ ，则倒出溶液体积刚好为圆柱体 $ABFC$ 的一半，为整个木桶容积的 $\frac{1}{4}$ 。倒出的溶液为原溶液的 $\frac{1}{4}$ ，则倒出的溶质也应为原溶质的 $\frac{1}{4}$ 。设木桶的容积为100，则原溶液含盐量为 $100 \times 20\% = 20$ ，倒出后剩余溶液含盐量为 $20 \times (1 - \frac{1}{4}) = 15$ ，则加满清水后盐水溶液的浓度 $= \frac{15}{100} \times 100\% = 15\%$ 。

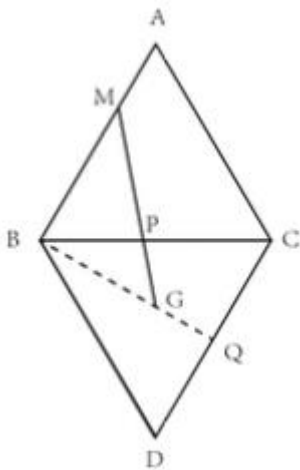


故正确答案为 D。

74、方法一：重心是三条中线的交点，具有特殊性质，即到顶点的距离与到对边中点的距离之比为 $2:1$ 。

思路：将图形展开连成直线，利用重心的特性，可以求出其他两边的值，继而求得直角边的值。展开图如下：

下：



已知： $\angle ABC = 60^\circ$ ， $\angle GBC = 30^\circ$ ， $MB = \frac{2AB}{3} = 2$ ，则 $\angle MBG = 90^\circ$ ，延长 BG 交 CD 于 Q 点，

$$\text{则 } BQ = \sqrt{(BC)^2 - CQ^2} = \sqrt{(3)^2 - (\frac{3}{2})^2} = \frac{3\sqrt{3}}{2},$$

$$\text{则 } BG = \frac{2BQ}{3} = \sqrt{3}, \quad MG = \sqrt{MB^2 + BG^2} = \sqrt{2^2 + (\sqrt{3})^2} = \sqrt{7}.$$

方法二：正式考试时，可以在图纸上画出上图，但是要相对标准，然后用尺子量取。

故正确答案为 B。

75、逆向考虑，至少有一处遇到绿灯的对立面是全是红灯，小王经过 4 个路口全部遇到红灯的概率是 $0.1 \times 0.2 \times 0.25 \times 0.4 = 0.002$ ，则至少有一处遇到绿灯的概率是 $1 - 0.002 = 0.998$ 。

故正确答案为 D。

76、根据题意，假设队列从左向右依次编号为 1-78 号，则小王为第 50 号。因小张是从右向左的第 48 个，他的左边还有 $78 - 48 = 30$ 人，则小张应为第 31 号。两人中间包含 32-49 号，共计 $49 - 32 + 1 = 18$ 人。

故正确答案为 C。

77、因上下坡的距离相等，可代入等距离平均速度公式求出上下坡的平均速度，则上下坡平均速度 $= \frac{2V_1V_2}{V_1+V_2} = \frac{2 \times 20 \times 50}{20+50} = \frac{200}{7} km/h$ 。设越野车在平地行驶的时间为 t 小时，则在上下坡行驶的时间为 $(5-t)$ 小时，可得： $\frac{200}{7} \times (5-t) + 30t = 146$ ，解得 $t = 2.2$ 小时，则平地的路程 $= 30 \times 2.2 = 66$ 公里。

故正确答案为 C。

78、根据题意，外公、母亲及两人的年龄之和都为平方数，而在正常年龄段中外公 64 岁与母亲 36 岁符合要求。则父亲与孩子今年的年龄之和为 $149 - 64 - 36 = 49$ 岁。父亲 7 年前的年龄刚好是孩子年龄的 6 倍，设 7 年前孩子 x 岁，则父亲为 $6x$ ， $x + 7 + 6x + 7 = 49$ ，解得 $x = 5$ 岁，则孩子今年 $5 + 7 = 12$ 岁，欲使 $(64 - n) \div (12 - n)$ 为整数，代入选项验证即可，只有 D 项， $(64 - 8) \div (12 - 8) = 14$ 满足要求。

那么 8 年前外公年龄是孩子年龄的整数倍。

故正确答案为 D。

79、数列有幂次方附近的数，优先考虑幂次数列。观察数列发现： $6 = 2^3 - 2$ ， $62 = 4^3 - 2$ ， $214 = 6^3 - 2$ ，数列规律为每一项 = 底数³ - 修正项。底数为 2，4，6，是公差为 2 的等差数列；修正项均为 2，故所求项的底数 $= 6 + 2 = 8$ ，则所求项 $= 8^3 - 2 = 510$ 。

故正确答案为 B。

80、方法一：数列变化幅度较小，做差或递推均无规律，考虑做和。观察发现： $1 + 4 + 5 = 10$ ； $4 + 5 + 6 = 15$ 。即前三项的和等于第五项，则所求项 $= 5 + 6 + 10 = 21$ 。

故正确答案为 D。

方法二：数列变化幅度较小，做差或递推均无规律，考虑做和。观察发现，相邻每四项之间存在： $1 + 4 + 5 + 6 = 16 = 4^2$ ， $4 + 5 + 6 + 10 = 25 = 5^2$ ， $5 + 6 + 10 + 15 = 36 = 6^2$ ，即数列相邻每四项之和，均为平方数。则所求项 $= 7^2 - 15 - 10 - 6 = 18$ 。

故正确答案为 B。

备注：本题为争议题，根据两种不同规律计算得出两个不同的答案，结合数字推理的考情分析，四项求和极少考到，故小粉笔将 D 作为本题的倾向性答案。

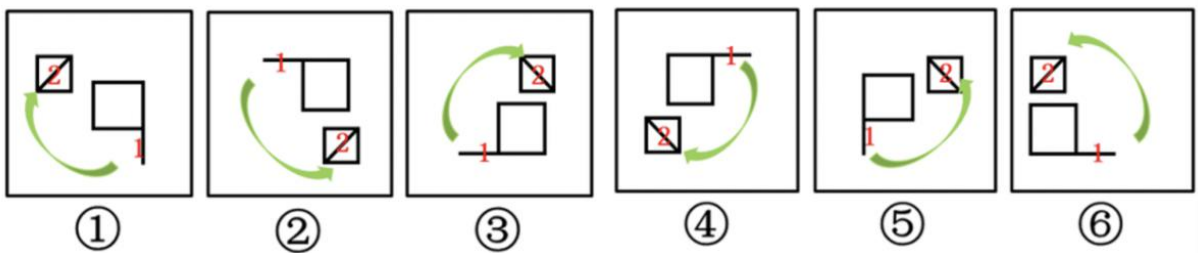
81、元素组成不同，优先属性规律。观察发现，第一组图中，有一个全直线图形、两个曲+直的图形，第二组图应遵循此规律，图一与图二为曲+直的图形，因此？处应为全直线图形，只有 B 项符合。

故正确答案为 B。

82、元素组成不同，且无明显属性规律，考虑数量规律。观察发现，题干图形中封闭空间明显，考虑数面，分别为 6、6、5、4、7、4，无明显规律。继续观察发现，题干图形都有外框，且内部线条均与外框相交产生交点，考虑数内部线条与外框交点，分别为 6、5、5、4、6、5，图①③④面数量与内部线条与外框的交点数量相等，图②⑤⑥面数量与内部线条与外框的交点数量之差的绝对值为 1。图①③④一组，图②⑤⑥一组。

故正确答案为 C。

83、元素组成相同，优先考虑位置规律。此题主要考查图形的旋转和翻转，如下图所示，使用时针法，按照 1-2 的顺序画时针。图①③④三个图形为顺时针，图②⑤⑥三个图形为逆时针。




故正确答案为 C。

84、元素组成不同，且无明显属性和数量规律。观察发现，每幅图中均有一个黑块，形状分别为正方形、三角形、正方形、三角形，因此选项中黑块应该为正方形，只有 B 项符合。

故正确答案为 B。

85、元素组成相似，相同线条重复出现，优先考虑样式规律中的加减同异。观察发现，第一组图中，图一与图二叠加，外框求异，内部线条求同，得到下图左面的图，第二组图遵循此规律，只有 C 项符合，图像如下图右面的图。



故正确答案为 C。

86、第一步：找出定义关键词。

“两个含有一个共同项的性质”、“得出一个新的性质判断作为结论”、“演绎推理是由普遍性的前提推出特殊性结论的推理”。

第二步：逐一分析选项。

A 项：所有的金属都不溶于水，铬是金属，两者有共同项金属，符合“两个含有一个共同项的性质”，所以铬不溶于水符合“得出一个新的性质判断作为结论”及“演绎推理是由普遍性的前提推出特殊性结论的推理”，符合定义，当选；

B 项：所有的麻雀都有羽毛，所有的鸽子都有羽毛，两者有共同项羽毛，符合“两个含有一个共同项的性质”，所以所有的鸟都有羽毛，所有鸟是普遍性的结论，不符合“演绎推理是由普遍性的前提推出特殊性结论的推理”，不符合定义，排除；

C 项：甲不是罪犯，乙不是罪犯，两者有共同项罪犯，符合“两个含有一个共同项的性质”，但前两句的甲乙都是特殊性的个体，不符合“演绎推理是由普遍性的前提推出特殊性结论的推理”，不符合定义，排除；

D 项：周恩来是伟大的政治家，周恩来是伟大的军事家，两者有共同项周恩来，符合“两个含有一个共同项的性质”，但前两句的周恩来都是特殊性的个体，不符合“演绎推理是由普遍性的前提推出特殊性结论的推理”，不符合定义，排除。

故正确答案为 A。

87、第一步：找出定义关键词。

“至少 100 年来”、“位于水下的”、“具有文化、历史或考古价值的”、“所有人类生存的遗迹”。

第二步：逐一分析选项。

A 项：珊瑚群大堡礁不是人类生存的遗迹，不符合“所有人类生存的遗迹”，不符合定义，排除；

B 项：触礁沉没的商船“泰兴号”位于水下，道光年间也已超过 100 年，符合“至少 100 年来”、“位于水下的”、“具有文化、历史或考古价值的”、“所有人类生存的遗迹”，符合定义，当选；

C 项：以人工岛方式建造的世界第一座七星级观光饭店，位于水上，不符合“位于水下的”，不符合定义，排除；

D 项：希腊克里特岛上发掘出的遗迹，位于水上，不符合“位于水下的”，不符合定义，排除。

故正确答案为 B。

88、第一步：找出定义关键词。

“第一次大刺激能冲淡第二次的小刺激”。

第二步：逐一分析选项。

A 项：越来越无心读书表明，并没能冲淡第二次的小刺激，不符合“第一次大刺激能冲淡第二次的小刺激”，不符合定义，排除；

B 项：有二十几张中奖，这令他欣喜若狂，并没体现能冲淡之后的小刺激，不符合“第一次大刺激能冲淡第二次的小刺激”，不符合定义，排除；

C项：当房价飞涨到每平方米5万元的时候，人们对于每公斤卖到50元的苹果已不足为奇，说明第一次的大刺激房价能冲淡第二次苹果价格的小刺激，符合“第一次大刺激能冲淡第二次的小刺激”，符合定义，当选；

D项：学习两门语言，并没体现接受刺激，不符合“第一次大刺激能冲淡第二次的小刺激”，不符合定义，排除。

故正确答案为C。

89、第一步：找出定义关键词。

关键词为“主动参与体育活动的态度和行为表现”。

第二步：逐一分析选项。

A项：小强体质较弱，为了增强体魄他开始参加体育运动，体现的是他参加体育活动的自主性，但是说的是开始参加，没有很好的体现出参与体育运动的行为表现，不属于运动参与，排除；

B项：为了培养孩子的兴趣，小生的父亲经常带他去游泳，虽然有参与体育运动的行为，但是没有体现出小生的主动参与体育运动，而是被迫的，是父亲为了培养他的兴趣，不属于运动参与，排除；

C项：小张酷爱网球比赛，会经常观看各种各样的网球比赛，没有体现出他参与体育活动的行为表现，排除；

D项：小李热爱跑步，只要有时间就会参加马拉松，热爱一词体现了小李的主动参与性，同时一有时间他就参加马拉松体现了他参与体育活动的行为表现，属于运动参与，当选。

故正确答案为D。

90、第一步：找出定义关键词。

“由特定法律事实所引起的”、“对损害予以补偿、强制履行或接受惩罚的特殊义务”。

第二步：逐一分析选项。

A项：举报揭露某公司造假，电视台没有报道，没有涉及特定的法律事实，不符合“由特定法律事实所引起的”、“对损害予以补偿、强制履行或接受惩罚的特殊义务”，不符合定义，排除；

B项：不给残疾人王某让座，没有涉及特定的法律事实，不符合“由特定法律事实所引起的”，不符合定义，排除；

C项：感情不和分手，没有涉及特定的法律事实，不符合“由特定法律事实所引起的”，不符合定义，排除；

D项：要求工人每天至少工作16小时，超过了法律规定的8小时工作制，符合“由特定法律事实所引起的”，然后予以加班费每小时5元，符合“对损害予以补偿、强制履行或接受惩罚的特殊义务”，符合定义，当选。

故正确答案为D。

91、逐一代入选项。

A项：计算机可以用来运算，相机可以用来摄影，二者都是功能的对应关系，前后逻辑关系一致，当选；

- B项：计算机可以进行公式运算，相机与程序没有必然联系，前后逻辑关系不一致，排除；
- C项：键盘是计算机的或然组成部分，屏幕是相机的必然组成部分，前后逻辑关系不一致，排除；
- D项：计算机与数学没有必然联系，相机可以用来拍摄风景，前后逻辑关系不一致，排除。

故正确答案为A。

92、第一步：判断题干词语间逻辑关系。

题干可以翻译为：得虎子→入虎穴

第二步：判断选项词语间逻辑关系。

- A项：翻译为股市有风险→入市须谨慎，与题干逻辑关系不一致，排除；
- B项：翻译为人不知→己莫为，与题干逻辑关系不一致，排除；
- C项：翻译为台上三分钟→台下十年功，与题干逻辑关系不一致，排除；
- D项：翻译为起浪→有风，与题干逻辑关系一致，当选。

故正确答案为D。

93、第一步：判断题干词语间逻辑关系。

军人和医生是交叉关系，军医为二者的交叉部分。

第二步：判断选项词语间逻辑关系。

- A项：司机和警察不是交叉关系，交警是维持交通秩序的警察，和司机没有必然联系，与题干逻辑关系不一致，排除；
- B项：舞蹈和说唱是并列关系，与题干逻辑关系不一致，排除；
- C项：学科是指按照学问的性质划分的门类，研究是指主动寻求根本性原因与更高可靠性依据，从而为提高事业或功利的可靠性和稳健性而做的工作，二者没有必然联系，与题干逻辑关系不一致，排除；
- D项：汽车和电动车是交叉关系，电动汽车为二者的交叉部分，与题干逻辑关系一致，当选。

故正确答案为D。

94、第一步：判断题干词语间逻辑关系。

上海是中国的组成部分，且上海不是首都。

第二步：判断选项词语间逻辑关系。

- A项：华盛顿是美国的组成部分，且华盛顿是首都，与题干逻辑关系不一致，排除；
- B项：莫斯科是俄罗斯的组成部分，且莫斯科是首都，与题干逻辑关系不一致，排除；
- C项：巴黎是法国的组成部分，且巴黎是首都，与题干逻辑关系不一致，排除；
- D项：悉尼是澳大利亚的组成部分，且悉尼不是首都，与题干逻辑关系一致，当选。

故正确答案为D。

95、第一步：判断题干词语间逻辑关系。

山涧指山间的水沟，山涧汇成河流，众多的河流汇成大海，是由小到大的发展过程，且都是由水组成的，水是其基本元素。

第二步：判断选项词语间逻辑关系。

A项：员工是基本元素，应该为部门组成了企业，企业组成了集团，与题干逻辑关系不一致，排除；

B项：草是基本元素，应该为草丛组成了草坪，草坪组成了草原，与题干逻辑关系不一致，排除；

C项：城市组成了国家，众多的国家组成了地球，是由小到大的发展过程，且都是由人组成的，人是其基本元素，与题干逻辑关系一致，当选；

D项：狂风、闪电和暴雨为并列关系，不存在从小到大的发展过程，与题干逻辑关系不一致，排除。

故正确答案为C。

96、第一步：分析题干

本题属于翻译推理题，首先翻译题干，然后进行推理。

(1) 有些经常志愿献血的教师→免费为学习困难学生补课

(2) 资助了贫困生的教师→和困难家庭结成了帮困对子

(3) 免费为学习困难学生补课的教师→没有和困难家庭结成帮困对子

根据(2)的逆否命题，结合递推关系可得：

(4) 有些经常志愿献血的教师→免费为学习困难学生补课→没有和困难家庭结成帮困对子→没有资助贫困生的教师

第二步：逐一分析选项

A项，有些经常志愿献血的教师是肯定了(4)的前件，肯前必肯后，说明他们没有资助贫困生。该选项正确。

B项，根据题干(4) 有些经常志愿献血的教师→没有资助贫困生的教师，已知“有的A不是B”不能换位成“有的B不是A”，故无法推出“有些资助了贫困生的教师没有志愿献血”。该选项错误。

C项，根据题干(4) 有些经常志愿献血的教师→没有资助贫困生的教师，无法推出“有些资助了贫困生的教师经常志愿献血”。该选项错误。

D项，有些经常志愿献血的教师是肯定(4)的前件，肯前必肯后，得出结论，没有跟困难家庭结成帮困对子。该选项错误。

第三步：再次标注答案

故正确答案为A。

97、找到题干中与玩具汽车有关的信息。

由(1)可知,卖玩具汽车可能在周一周二,或周二周三,或周五周六。由(3)可知,玩具汽车肯定不在周五周六卖。因此玩具汽车或在周一周二卖,或在周二周三卖。因此周二肯定卖玩具汽车。

故正确答案为B。

98、第一步:翻译题干。

不可能所有的江西人都喜欢辣椒,不可能的矛盾是必然,所有都的矛盾是有的不,所以该命题等价于,必然有的江西人不喜欢吃辣椒。

第二步:再次标注答案。

故正确答案为A。

99、第一步:找出论点和论据。

论点:有些留大胡子的人是大嗓门。

论据:有些艺术家留大胡子。

第二步:逐一分析选项。

A项:“有些艺术家是大嗓门”和“有些留大胡子的人是大嗓门”话题不一致,无关选项,无法加强,排除;

B项:“所有大嗓门的人都是艺术家”,是由论点中的“大嗓门”推出论据中的“艺术家”,搭桥方向反了,无法加强,排除;

C项:“所有艺术家都是大嗓门”,在论据和论点之间建立联系,搭桥项,且由论据中的“艺术家”推出论点中的“大嗓门”,可以加强,当选;

D项:“有些大嗓门的人不是艺术家”和“有些留大胡子的人是大嗓门”话题不一致,无关选项,无法加强,排除。

故正确答案为C。

100、在小明从船头走到船尾的过程中,两船行驶的时间相同。

若两船长度相同(如图1所示),则二者的路程也相同($S_1 = S_2$),时间相同情况下,速度必然相等,③正确。

若两船长度不同(如图2所示),则船长的路程就比较远($S_1 > S_2$),船长的速度更快,①⑤正确,②④错误。

故正确答案为D。

101、方法一:由题干“平均每月业务及管理费用”可知本题为平均数计算问题。定位到表格最后一行可知2013年1-5月业务及管理费的具体数额,平均每月业务及管理费用

$$= \frac{1-5月业务及管理费总额}{5} = \frac{185 + 166 + 195 + 189 + 190}{5} = 185 \text{ 亿元。}$$

方法二：取参照值185计算，则原式 = $0 - 19 + 10 + 4 + 5 = 0$ ，则平均每月业务及管理费用 = $185 + 0 = 185$ 亿元。

故正确答案为 B。

102、由题干“比重高于上年同期水平”可知本题为两期比重比较问题。根据两期比重比较公式，比较两期比重大小，仅需比较 a 与 b 的大小关系，当 $a > b$ 时比重上升，当 $a < b$ 时比重下降。定位图表可知，保险赔付支出总额同比增速 $b = 32\%$ ，寿险赔付支出同比增速 $a_1 = 68\%$ ，健康险赔付支出增速 $a_2 = 29\%$ ，人身意外伤害险赔付支出同比增速 $a_3 = 11\%$ 。同比增速高于 32% 的，只有寿险一项满足。

故正确答案为 B。

103、由题干“环比增速排序正确的是”可知本题为一般增长率的比较及排序类问题，可直接比较现期与基期的倍数关系来确定大小 $(\text{增长率} = \frac{\text{现期} - \text{基期}}{\text{基期}}) = \frac{\text{现期}}{\text{基期}} - 1$ ，比较大小中， -1 部分可以忽略。定位到表格中，人身意外伤害险收入两期比值 $= \frac{56}{23} \approx 2.4$ ；健康险收入两期比值 $= \frac{113}{76} \approx 1.5$ ；寿险收入两期比值 $= \frac{1025}{944} \approx 1.1$ 。则三类保险收入中人身意外伤害险收入环比增速最高，健康险次之，寿险最低，满足要求的排序为 D 项。

故正确答案为 D。

104、根据题干中“能够从上述资料中推出的是”可知此题为综合分析问题，可逐项分析选择出能够推出的一项。

A 项：定位表格“保费收入”栏，5 月份健康险的保费收入额高于 4 月份，无法推出；

B 项：定位表格“保费收入”栏，首先观察人身险中的寿险，4 月份收入为 699 亿元，而第一季度三个月中收入均超过 699 亿元，故 4 月份的寿险收入应小于一季度的平均值，无法推出；

C 项：定位表格“保险赔付支出”栏，2 月份寿险赔付支出高于 1 月份，无法推出。

D 项：定位表格“保费收入”栏，1 月份人身意外伤害险收入为 40 亿元，保费总收入为 2012 亿元，所占比重 $= \frac{40}{2012}$ ，直除首位只能商 1，占比不足 2% ，能够推出；

故正确答案为 D。

105、由题干“哪个月比值最低”可知本题为比值的比较问题。定位到表格中，4 个月份全行业保险赔付支出额与保险保费收入额的比值分别为：

A 项：1 月 $= \frac{501}{2012} \approx 0.249$ ；

B 项：2 月 $= \frac{447}{1382} \approx 0.323$ ；

C 项：3 月 $= \frac{540}{1756} \approx 0.308$ ；

D项：4月 = $\frac{505}{1316} \approx 0.384$ 。

比较得知，最低的为1月份。

故正确答案为A。

106、根据题干所求“与上年相比，2011年……增长速度最快”判定本题为一般增长率比较问题。定位统计图，已知2011年与2010年四种货运量绝对量，根据公式：增长率 = $\frac{\text{现期量} - \text{基期量}}{\text{基期量}}$ ，则2011年四种货运量增长速度分别为：

铁路增长率 = $\frac{15018 - 15077}{15077} < 0$ ；

公路增长率 = $\frac{90302 - 83473}{83473} \approx \frac{90300 - 83500}{83500} < 10\%$ ；

水路增长率 = $\frac{43008 - 38858}{38858} \approx \frac{43000 - 38900}{38900} > 10\%$ ；

输油管道增长率 = $\frac{18198 - 13392}{13392} \approx \frac{18200 - 13400}{13400} > 30\%$ 。

则2011年增长速度最快的运输方式为输油管道。

故正确答案为D。

107、根据题干所求“2011年……比2007年增长……”结合选项为%，判定本题为一般增长率计算问题。定位统计图，

2011年该省货运总量为四种货运方式之和 = $15018 + 90302 + 43008 + 18198 \approx 15000 + 90300 + 43000 + 18200 = 166500$ 万吨；

2007年该省货运总量为四种货运方式之和 = $14565 + 68056 + 25812 + 11564 \approx 14600 + 68100 + 25800 + 11600 = 120100$ 万吨。

根据增长率 = $\frac{\text{现期量} - \text{基期量}}{\text{基期量}}$ ，则2011年该省货运总量比2007年的增长率 = $\frac{166500 - 120100}{120100} \approx \frac{46400}{120000} \approx 38.7\%$ ，与B项最接近。

故正确答案为B。

108、根据题干所求“……年均增长量”判定本题为年均增长量问题。定位统计图，2007年该省公路货运量为68056万吨，2011年为90302万吨，根据公式，年均增长量万吨 = $\frac{\text{现期量} - \text{基期量}}{\text{年份差}} = \frac{90302 - 68056}{2011年 - 2007年} \approx \frac{90300 - 68000}{4} = \frac{22300}{4} = 5575$ ，与A项最接近。

故正确答案为A。

109、根据题干所求“……增长率每年均超过5%……”判定本题为一般增长率问题。根据增长率 = $\frac{\text{基期量} - \text{现期量}}{\text{基期量}}$ ，逐一判断四种货运方式的增长率：

铁路货运量：2008 年增长率 $= \frac{14990 - 14565}{14565} = \frac{425}{14565} < 5\%$ ，排除；

公路货运量：2008 年增长率 $= \frac{71301 - 68056}{68056} = \frac{3245}{68056} < 5\%$ ，排除；

水路货运量：2008 年增长率 $= \frac{29367 - 25812}{25812} = \frac{3555}{25812} > 10\%$ ；2009 年增长率 $= \frac{32678 - 29367}{29367} = \frac{3311}{29367} > 10\%$ ；2010 年增长率 $= \frac{38858 - 32678}{32678} = \frac{6180}{32678} > 10\%$ ；2011 年增长率 $= \frac{43008 - 38858}{38858} = \frac{4150}{38858} > 10\%$ ，每年均超过 5%；

输油管道货运量：2009 年增长率 $= \frac{12769 - 12246}{12246} = \frac{523}{12246} < 5\%$ ，排除。

故 2007 年以来，该省货运量增长率每年均超过 5% 的运输方式只有水路货运量一项。

故正确答案为 C。

110、(1)：定位统计图，2010 年该省货运总量 $= \text{铁路货运量} + \text{公路货运量} + \text{水路货运量} + \text{输油管道货运量} = 15077 + 83473 + 38858 + 13392$ ，显然未超过 16 亿吨，错误；

(2)：定位统计图，2009 年该省货运总量中，公路货运量为 79319 万吨，其他货运总量 $= \text{铁路货运量} + \text{水路货运量} + \text{输油管道货运量} = 15069 + 32678 + 12769 \approx 15100 + 32700 + 12800 \approx 60600$ 万吨；

(3)：定位统计图，2007-2011 年四种货运方式中，铁路货运量增长率 $= \frac{15018 - 14565}{14565} \approx \frac{15000 - 14600}{14600} \approx 3\%$ ；公路货运量增长率 $= \frac{90302 - 68056}{68056} \approx \frac{90300 - 68100}{68100} \approx 33\%$ ；水路货运量增长率 $= \frac{43008 - 25812}{25812} \approx \frac{43000 - 25800}{25800} \approx 67\%$ ；输油管道货运量增长率 $= \frac{18198 - 11564}{11564} \approx \frac{18200 - 11600}{11600} \approx 57\%$ ，可见铁路货运量增长最慢，正确。

故(2)(3)正确，本题正确说法有 2 项。

故正确答案为 B。

111、根据题干“2010 年……人均……约为”，结合材料时间是 2010 年，可判定本题为现期平均数问题。定位文字资料第一段，可知“2010 年我国 GDP 达到 58791 亿美元”，结合常识 2010 年我国人口大约为 13 亿。

则 2010 年我国人均 GDP $= \frac{\text{GDP}}{\text{全国总人口}} \approx \frac{58791 \text{ 亿美元}}{13 \text{ 亿}} \approx 4000^+$ 美元。

故正确答案为 D。

112、根据题干“1978 年我国粮食产量大约为”，结合材料时间为 2010 年，可判定本题为基期计算问题。

定位文字资料第二段，可知“2010 年，我国粮食产量达到 54641 万吨，比 1978 年增长 79.3%”。则 1978 年我

国粮食产量 $= \frac{\text{现期量}}{1+r} = \frac{54641}{1+79.3\%} \approx \frac{54641}{1.8} \approx 30000$ 万吨，与 B 项最接近。

故正确答案为 B。

113、根据题干“2010 年……比 1978 年增加了”，结合选项是具体单位，可判定本题为增长量计算问题。定位文字资料第二段，可知“2010 年……油料产量 3239 万吨，增长 5.2 倍”。则 2010 年油料产量比 1978 年的增长量 $= \frac{\text{现期量}}{1+r} \times r = \frac{3239}{1+5.2} \times 5.2 = \frac{3239}{6.2} \times 5.2 \approx 520 \times 5.2 = 2704$ 万吨，与 C 项最接近。

故正确答案为 C。

114、定位文字资料第三段，可知“2009 年我国制造业产出占世界的 18.6%，比美国稍低 1.3 个百分点，位居世界第二”。则 2009 年美国和中国制造业产出之和共占世界的比重 $= (18.6\% + 1.3\%) + 18.6\% = 38.5\%$ 。

故正确答案为 A。

115、A 项：定位文字资料第四段，可知“2009 年，我国货物出口额超过德国居世界第一位，货物进口额居世界第二位”，根据资料可推出 2009 年我国货物进出口总额可能居世界第一位，也可能居第二位，错误；

B 项：定位文字资料第四段，可知“1978 年，我国货物进出口总额占世界贸易总额的比重不到 1%，居世界第二十九位。2009 年，我国货物出口额超过德国居世界第一位，货物进口额居世界第二位”，根据资料可推出我国货物进出口总额位居世界第一位或第二位，与 1978 年相比，我国在世界的位次至少上升了 $29 - 2 = 27$ 位，正确；

C 项：定位文字资料第三段，可知“2007 年，在 22 个制造业大类中，我国在 7 个大类中名列第一，有 15 个大类名列前三”，根据资料可推出我国在 $15 - 7 = 8$ 个大类中名列第二或第三，至多在 8 个大类中名列第三，并非至少，错误；

D 项：材料中未提及我国粮食出口的相关情况，无法推出，错误。

故正确答案为 B。

116、根据题干“东北地区 2014 年民间固定资产投资额为”，结合材料时间为 2016 年，判定本题为间隔基期计算问题。定位文字材料第二段“东北地区 21608 亿元，比上年下降 24.4%，降幅收窄 1.6 个百分点。”可知，2016 年增长率 $r_1 = -24.4\%$ ，2015 年增长率 $r_2 = -(24.4\% + 1.6\%) = -26\%$ ，则间隔增长率 $= r_1 + r_2 + r_3 = -24.4\% - 26\% + 24.4\% \times 26\% \approx -24.4\% - 26\% + 25\% \times 25\% = -50.4\% + 6.25\% = -44.15\%$

则东北地区 2014 年民间固定资产投资额 $\approx \frac{21608}{1 - 44.15\%} \approx 38600$ 亿元，与 D 项最接近。

故正确答案为 D。

117、定位文字材料首段末句，“2016 年民间固定资产投资占全国固定资产投资的比重为 61.2%……比上年降低 3 个百分点”，则 2015 年民间固定资产投资占全国固定资产投资的比重为 $61.2\% + 3\% = 64.2\%$ 。

故正确答案为 A。

118、由题干“2016 年增长额之差”可知，本题为增长量计算问题。定位表格，绝对量最大的行业为公共设施管理业，2016 年绝对量 13441 亿元，比上年增长 5.8%，绝对量最小的行业为铁路运输业，2016 年绝对量 212 亿元，比上年增长 -29.7%。两者增长额之差为 $\frac{13441}{1+5.8\%} \times 5.8\% - \frac{212}{1-29.7\%} \times (-29.7\%) \approx \frac{13441}{1+\frac{1}{17}} \times \frac{1}{17} - \frac{212}{0.7} \times (-0.3) \approx \frac{13441}{18} + 90 \approx 837$ 亿元，与 D 选项最接近。

故正确答案为 D

119、定位表格材料可知，煤炭开采和洗选业：-18.3%，黑色金属矿采选业：-35.4%，铁路运输业：-29.7%，公共管理、社会保障和社会组织：-25.6%。问的是变幅即变化幅度，变化幅度最大的是黑色金属矿采选业：-35.4%。

故正确答案为 B。


120、A 项：定位文字材料第三段：“第三产业 167673 亿元，年度增长 2%，增速与 1—11 月份持平”，无法知道每个月份的增速，无法判断，错误；

B 项：定位文字材料第一段，可知全国民间固定资产投资 365219 亿元，定位文字材料第三段，第一产业与第三产业民间固定资产投资分别为 15039 亿元与 167673 亿元，工业民间固定投资 180970 亿元。第二产业民间固定资产投资 = $365219 - 15039 - 167673 = 182507$ ，工业民间固定资产投资占第二产业民间固定资产投资的比重 = $\frac{180970}{182507} \approx 99\%$ ，错误；

C 项：定位文字材料第二段，“东部地区民间固定资产投资 164674 亿元，中部地区 107881 亿元，西部地区 71056 亿元，东北地区 21608 亿元”，东部地区的民间固定资产投资额远远高于别的地区，是民间固定资产投资的主力，正确；

D 项：定位材料第二段，“东部地区民间固定资产投资 164674 亿元，中部地区 107881 亿元，西部地区 71056 亿元，东北地区 21608 亿元”，各地区民间固定资产投资额差距很大，错误。

故正确答案为 C。



美好的事情即将发生...

something wonderful is about to happen